

Subject : GE_Q01-Q10_PGTECO

Question ID:- 181

DEFERENCE

Choose the word similar in meaning to the above word.

- (1) Skill
- (2) Reverence
- (3) Prediction
- (4) Refinement

Options:-

- 1, Option ID :- 721,
- 2, Option ID :- 722,
- 3, Option ID :- 723,
- 4, Option ID :- 724,

Answer Given:- 2, Option ID : -722

Question ID:- 182

DEARTH

Choose the word opposite in meaning to the one given above.

- (1) Success
- (2) Wisdom
- (3) Surfeit
- (4) Passion

Options:-

- 1, Option ID :- 725,
- 2, Option ID :- 726,
- 3, Option ID :- 727,
- 4, Option ID :- 728,

Answer Given:- 3, Option ID : -727

Question ID:- 183

Identify the Part of Speech of the underlined word in the sentence given below :

The children are where you left them .

- (1) Noun
- (2) Verb
- (3) Pronoun
- (4) Adjective

Options:-

- 1, Option ID :- 729,
- 2, Option ID :- 730,
- 3, Option ID :- 731,
- 4, Option ID :- 732,

Answer Given:- 3, Option ID : -731

Question ID:- 184

I am going to write a letter.

Choose the option in which VOICE in the above sentence has been correctly changed into Passive Voice.

- (1) A letter is going to be written by me.
- (2) A letter is being written by me.
- (3) A letter is written by me.
- (4) A letter will be written by me.

Options:-

- 1, Option ID :- 733,
- 2, Option ID :- 734,
- 3, Option ID :- 735,
- 4, Option ID :- 736,

Answer Given:- 2, Option ID : -734

Question ID:- 185

Ram said, "I shall write a book."

Choose the option in which the above sentence has been changed into Indirect Narration.

- (1) Ram said that he shall write a book.
- (2) Ram said that he would write a book.
- (3) Ram said that he should write a book.
- (4) Ram said that I should write a book.

Options:-

- 1, Option ID :- 737,
- 2, Option ID :- 738,
- 3, Option ID :- 739,
- 4, Option ID :- 740,

Answer Given:- 3, Option ID : -739

Question ID:- 186

Rearrange the following jumbled words and phrases into a meaningful and grammatically correct sentence :

- (A) sleeps the
 - (B) that knows
 - (C) sleep
 - (D) no waking
 - (E) she
- (1) (E), (A), (C), (B), (D)
 - (2) (D), (B), (C), (A), (E)
 - (3) (C), (A), (B), (D), (E)
 - (4) (B), (D), (C), (A), (E)

Options:-

- 1, Option ID :- 741,
- 2, Option ID :- 742,
- 3, Option ID :- 743,
- 4, Option ID :- 744,

Answer Given:- 4, Option ID : -744

Question ID:- 187

Identify the Part of Speech of the underlined word in the sentence given below :

It shall be done by then.

- (1) Noun
- (2) Pronoun
- (3) Adjective
- (4) Adverb

Options:-

- 1, Option ID :- 745,
- 2, Option ID :- 746,
- 3, Option ID :- 747,
- 4, Option ID :- 748,

Answer Given:- 2, Option ID : -746

Question ID:- 188

Identify the tense of the following sentence :

I am going to Mumbai in the evening.

- (1) Future indefinite
- (2) Future continuous
- (3) Present continuous
- (4) Simple present

Options:-

- 1, Option ID :- 749,
- 2, Option ID :- 750,
- 3, Option ID :- 751,

- 4, Option ID :- 752,
Answer Given:- 3, Option ID : -751

Question ID:- 189

Fill in the blanks in the following sentence by choosing the correct options out of the given ones.

He looked _____ his watch _____ his bedroom.

- (1) at ; at
- (2) for ; in
- (3) in ; at
- (4) on ; through

Options:-

- 1, Option ID :- 753,
- 2, Option ID :- 754,
- 3, Option ID :- 755,
- 4, Option ID :- 756,
Answer Given:- 4, Option ID : -756

Question ID:- 190

Fill in the blank in the following sentence by choosing the correct option out of the given ones.

He swam _____ the river to the other bank.

- (1) across
- (2) into
- (3) in
- (4) along

Options:-

- 1, Option ID :- 757,
- 2, Option ID :- 758,
- 3, Option ID :- 759,
- 4, Option ID :- 760,
Answer Given:- 1, Option ID : -757

Subject : GH_Q11-Q20_PGTECO

Question ID:- 191

नीचे दिए गए गद्यांश को पढ़कर सर्वाधिक उचित विकल्प का चयन कीजिए।

अपनी समस्याओं को हल कर लेने वाला एक कल्याणकारी और प्रबल लोकमत स्थापित करने में समय लगता है। काफी समय लगता है और इस बीच हमें प्रतीक्षा करनी होगी। अतएव सामाजिक सुधार की संपूर्ण समस्या यह रूप लेती है; कहाँ लोग, जो सुधार चाहते हैं ? पहले उन्हें तैयार करो।

गद्यांश में किसकी स्थापना का उल्लेख है ?

- (1) कल्याणकारी और सबल लोकमत
- (2) कल्याणकारी और प्रबल लोकमत
- (3) कल्याणकारी और लोकतांत्रिक मत
- (4) लोकतांत्रिक और प्रबलमत

Options:-

- 1, Option ID :- 761,
- 2, Option ID :- 762,
- 3, Option ID :- 763,
- 4, Option ID :- 764,

Answer Given:- 2, Option ID : -762

Question ID:- 192

नीचे दिए गए गद्यांश को पढ़कर सर्वाधिक उचित विकल्प का चयन कीजिए।

अपनी समस्याओं को हल कर लेने वाला एक कल्याणकारी और प्रबल लोकमत स्थापित करने में समय लगता है। काफी समय लगता है और इस बीच हमें प्रतीक्षा करनी होगी। अतएव सामाजिक सुधार की संपूर्ण समस्या यह रूप लेती है; कहाँ लोग, जो सुधार चाहते हैं ? पहले उन्हें तैयार करो।

गद्यांश के अनुसार सामाजिक सुधार की मूल समस्या है।

- (1) उन लोगों की तलाश जो सुधारक हैं
- (2) उन लोगों की पहचान जो असामाजिक हैं
- (3) सुधार हेतु लोगों को तैयार करना
- (4) समाज सुधारक लोगों का अधिक होना

Options:-

- 1, Option ID :- 765,
- 2, Option ID :- 766,
- 3, Option ID :- 767,
- 4, Option ID :- 768,

Answer Given:- 3, Option ID : -767

Question ID:- 193

नीचे दिए गए गद्यांश को पढ़कर सर्वाधिक उचित विकल्प का चयन कीजिए।

अपनी समस्याओं को हल कर लेने वाला एक कल्याणकारी और प्रबल लोकमत स्थापित करने में समय लगता है। काफी समय लगता है और इस बीच हमें प्रतीक्षा करनी होगी। अतएव सामाजिक सुधार की संपूर्ण समस्या यह रूप लेती है; कहाँ लोग, जो सुधार चाहते हैं ? पहले उन्हें तैयार करो।

गद्यांश में लोकमत स्थापित करने के लिए क्या करने के लिए कहा गया है ?

- (1) परिवर्तन के लिए तत्परता
- (2) परिवर्तन के लिए धैर्य
- (3) समाज सुधार की तत्परता
- (4) समाज सुधार की प्रबलता

Options:-

- 1, Option ID :- 769,
- 2, Option ID :- 770,
- 3, Option ID :- 771,
- 4, Option ID :- 772,

Answer Given:- 2, Option ID : -770

Question ID:- 194

नीचे दिए गए गद्यांश को पढ़कर सर्वाधिक उचित विकल्प का चयन कीजिए।

अपनी समस्याओं को हल कर लेने वाला एक कल्याणकारी और प्रबल लोकमत स्थापित करने में समय लगता है। काफी लंबा समय लगता है और इस बीच हमें प्रतीक्षा करनी होगी। अतएव सामाजिक सुधार की संपूर्ण समस्या यह रूप लेती है; कहाँ हैं वे लोग, जो सुधार चाहते हैं ? पहले उन्हें तैयार करो।

गद्यांश के अनुसार कल्याणकारी लोकमत की विशेषता है।

- (1) परोपकार की भावना
- (2) अपनी समस्याओं को स्वयं सुलझाना
- (3) अपनी समस्याओं से पलायन
- (4) प्रबल प्रभुत्व वाला होना

Options:-

• 1, Option ID :- 773,

• 2, Option ID :- 774,

• 3, Option ID :- 775,

• 4, Option ID :- 776,

Answer Given:- 2, Option ID : -774

Question ID:- 195

नीचे दिए गए गद्यांश को पढ़कर सर्वाधिक उचित विकल्प का चयन कीजिए।

अपनी समस्याओं को हल कर लेने वाला एक कल्याणकारी और प्रबल लोकमत स्थापित करने में समय लगता है। काफी लंबा समय लगता है और इस बीच हमें प्रतीक्षा करनी होगी। अतएव सामाजिक सुधार की संपूर्ण समस्या यह रूप लेती है; कहाँ हैं वे लोग, जो सुधार चाहते हैं ? पहले उन्हें तैयार करो।

प्रतीक्षा का समानार्थी शब्द है।

- (1) परीक्षण
- (2) अन्वेषण
- (3) इंतज़ार
- (4) चैन

Options:-

• 1, Option ID :- 777,

• 2, Option ID :- 778,

• 3, Option ID :- 779,

• 4, Option ID :- 780,

Answer Given:- 3, Option ID : -779

Question ID:- 196

विलोम शब्द का कौन-सा युग्म सही नहीं है ?

- (1) इहलोक - परलोक
- (2) दुःख - सुख
- (3) निष्काम - सकाम
- (4) निरक्षर - शिक्षित

Options:-

- 1, Option ID :- 781,
- 2, Option ID :- 782,
- 3, Option ID :- 783,
- 4, Option ID :- 784,

Answer Given:- 1, Option ID : -781

Question ID:- 197

उत्कृष्ट का पर्यायवाची शब्द है

- (1) उन्नति
- (2) श्रेष्ठ
- (3) उत्थान
- (4) उन्मेष

Options:-

- 1, Option ID :- 785,
- 2, Option ID :- 786,
- 3, Option ID :- 787,
- 4, Option ID :- 788,

Answer Given:- 2, Option ID : -786

Question ID:- 198

तत्सम- तद्भव का कौन-सा युग्म असंगत है ?

- (1) पट्टिका - पाटी
- (2) नृत्य - नाच
- (3) धूम्र - धुआँ
- (4) पक्षी - चिड़िया

Options:-

- 1, Option ID :- 789,
- 2, Option ID :- 790,
- 3, Option ID :- 791,
- 4, Option ID :- 792,

Answer Given:- 4, Option ID : -792

Question ID:- 199

संधि का कौन-सा उदाहरण असंगत है -

- (1) सु + आगत = स्वागत
- (2) इति + आदि = इत्यादि
- (3) महा + ऋषि = महर्षि
- (4) रमा + ईश = रमीश

Options:-

- 1, Option ID :- 793,
- 2, Option ID :- 794,

pgtprime.com

pgtprime.com

▪ 3, Option ID :- 795,

▪ 4, Option ID :- 796,

Answer Given:- 4, Option ID : -796

Question ID:- 200

समूह से भिन्न शब्द-युग्म है -

- (1) दिन-रात
- (2) आगे-पीछे
- (3) ऊँच-नीच
- (4) कंकड़-धूल

Options:-

▪ 1, Option ID :- 797,

▪ 2, Option ID :- 798,

▪ 3, Option ID :- 799,

▪ 4, Option ID :- 800,

Answer Given:- 4, Option ID : -800

Subject : GA_Q21-Q30_PGTECO

Question ID:- 201

What is the hexadecimal equivalent of decimal number 23 ?

- (1) 17
- (2) 7
- (3) 16
- (4) 18

दशमलव संख्या 23 की षोडश आधारी समतुल्य संख्या क्या होगी ?

- (1) 17
- (2) 7
- (3) 16
- (4) 18

Options:-

▪ 1, Option ID :- 801,

▪ 2, Option ID :- 802,

▪ 3, Option ID :- 803,

▪ 4, Option ID :- 804,

Answer Given:- 3, Option ID : -803

Question ID:- 202

Among the following which is not advisable for having 'Earth Quake safe' buildings ?

- (1) To consult qualified architects and structural engineers while constructing the building.
- (2) Use heavy construction materials at roof area in the highly seismic area.
- (3) Fix cupboards and shelves to the walls.
- (4) Have firefighting equipment in working order.

निम्नलिखित में से किसे 'भूकम्प सुरक्षित' भवन के लिए परामर्शयोग्य नहीं कहा जा सकता है ?

- (1) भवन निर्माण के समय योग्य वास्तुकारों और स्ट्रक्चरल इंजीनियरों से परामर्श लेना
- (2) अधिक भूकम्प वाले क्षेत्रों में छत पर भारी निर्माण सामग्री का प्रयोग करना
- (3) कपबोर्ड और शेल्फ को दीवारों में फिक्स करना
- (4) अग्निशमन उपकरणों को चालू हालत में रखना

Options:-

▪ 1, Option ID :- 805,

▪ 2, Option ID :- 806,

▪ 3, Option ID :- 807,

▪ 4, Option ID :- 808,

Answer Given:- 2, Option ID :- 806

Question ID:- 203

Match List (I) with List (II) and select the correct answer using the codes given below :

List (I) (Missiles)	List (II) (Month in which missile tests were conducted)
(A) Brahmos Extended Range Version	(i) May, 2022
(B) Submarine Launched Ballistic Missile	(ii) October, 2022
(C) Helina	(iii) April, 2022
(D) Phase II Ballistic Missile Defence Interceptor	(iv) November, 2022

Codes :

- | | (A) | (B) | (C) | (D) |
|-----|-------|-------|-------|-------|
| (1) | (iv) | (iii) | (ii) | (i) |
| (2) | (i) | (ii) | (iii) | (iv) |
| (3) | (ii) | (iv) | (i) | (iii) |
| (4) | (iii) | (i) | (iv) | (ii) |

सूची-(I) और सूची-(II) का मिलान किजिए और निचे दिए गए कूट का प्रयोग करते हुए सही उत्तर का चयन किजिए।

सूची-(I) (मिसाइलें)	सूची-(II) (मिसाइल परीक्षण का माह)
(A) ब्रह्मोस का विस्तारीत रेंज संस्करण	(i) मई, 2022
(B) पनडुब्बी से छोड़ी जाने वाली बैलिस्टिक मिसाइल	(ii) अक्टूबर, 2022
(C) हेलिना	(iii) अप्रैल, 2022
(D) फेज टू बैलिस्टिक मिसाइल डिफेंस इंटरसेप्टर	(iv) नवम्बर, 2022

कूट :

- | | (A) | (B) | (C) | (D) |
|-----|-------|-------|-------|-------|
| (1) | (iv) | (iii) | (ii) | (i) |
| (2) | (i) | (ii) | (iii) | (iv) |
| (3) | (ii) | (iv) | (i) | (iii) |
| (4) | (iii) | (i) | (iv) | (ii) |

Options:-

- 1, Option ID :- 809,
- 2, Option ID :- 810,
- 3, Option ID :- 811,
- 4, Option ID :- 812,

Answer Given:- 3, Option ID : -811

Question ID:- 204

Match List (I) with List (II) and select the correct answer using the codes given below :

List (I)

(Arjuna awardees, 2022)

- (A) Omprakash Mitharval
- (B) Sreeja Akula
- (C) Anshu
- (D) Parveen

List (II)

(Sports/Games)

- (i) Wushu
- (ii) Shooting
- (iii) Table Tennis
- (iv) Wrestling

Codes :

- | | (A) | (B) | (C) | (D) |
|-----|-------|-------|-------|-------|
| (1) | (i) | (ii) | (iv) | (iii) |
| (2) | (iv) | (i) | (iii) | (ii) |
| (3) | (ii) | (iii) | (iv) | (i) |
| (4) | (iii) | (iv) | (ii) | (i) |

सूची-(I) और सूची (II) का मिलान किजिए और निचे दिए गए कूट का प्रयोग करते हुए सही उत्तर का चयन किजिए।

सूची-(I)

(अर्जुन पुरस्कार विजेता, 2022)

- (A) ओमप्रकाश मिथरवाल
- (B) श्रीजा अकुला
- (C) अंशु
- (D) परवीन

सूची-(II)

(खेल)

- (i) वुशु
- (ii) निशानेबाजी
- (iii) टेबल टेनिस
- (iv) कुश्ती

कूट :

- | | (A) | (B) | (C) | (D) |
|-----|-------|-------|-------|-------|
| (1) | (i) | (ii) | (iv) | (iii) |
| (2) | (iv) | (i) | (iii) | (ii) |
| (3) | (ii) | (iii) | (iv) | (i) |
| (4) | (iii) | (iv) | (ii) | (i) |

Options:-

- 1, Option ID :- 813,
- 2, Option ID :- 814,
- 3, Option ID :- 815,
- 4, Option ID :- 816,

Answer Given:- 4, Option ID : -816

Question ID:- 205

Among the following authors whose book/title was selected for Sahitya Akademi Awards 2022 in Sanskrit ?

- (1) Janardan Prasad Pandey 'Mani'
- (2) R. Ganesh
- (3) Balram Shukla
- (4) Sudhikanta Bharadwaja

निम्नलिखित लेखकों में से किस लेखक की पुस्तक/शीर्षक को संस्कृत में साहित्य अकादमी पुरस्कार 2022 के लिए चुना गया ?

- (1) जनार्दन प्रसाद पांडे 'मणि'
- (2) आर. गणेश
- (3) बलराम शुक्ला
- (4) सुधीकांता भारद्वाज

Options:-

- 1, Option ID :- 817,
- 2, Option ID :- 818,
- 3, Option ID :- 819,
- 4, Option ID :- 820,

Answer Given:- 1, Option ID : -817

Question ID:- 206

A commission of inquiry headed by Justice J.C. Shah called 'Shah Commission of Inquiry' was appointed to inquire into which of the following events in India ?

- (1) The proclamation of emergency in 1975
- (2) The demolition of Babri Masjid in 1992
- (3) Indira Gandhi's assassination in 1984
- (4) Bombay Riots 1992

भारत में निम्नलिखित में से किस घटना की जांच के लिए जस्टिस जे.सी.शाह की अध्यक्षता में एक जांच आयोग 'शाह जांच कमीशन' की नियुक्ति की गई थी ?

- (1) 1975 में आपातकाल की घोषणा
- (2) 1992 में बाबरी मस्जिद का ध्वंस
- (3) 1984 में इंदिरा गांधी की हत्या
- (4) 1992 में बम्बई के दंगे

Options:-

- 1, Option ID :- 821,
- 2, Option ID :- 822,
- 3, Option ID :- 823,
- 4, Option ID :- 824,

Answer Given:- 3, Option ID : -823

Question ID:- 207

The Royal Bengal Tiger is most commonly found in which kind of forests in India ?

- (1) Thorn Forests
- (2) Mangrove Forests
- (3) Montane Forests
- (4) Tropical Evergreen Forests

भारत में किस प्रकार के वनों में सामान्यतः रायल बंगाल टाइगर पाए जाते हैं ?

- (1) कटिदार वन
- (2) कच्छ वनस्पतिवन
- (3) पर्वतीय वन
- (4) उष्णकटिबंधी सदाहरित वन

Options:-

▪ 1, Option ID :- 825,

▪ 2, Option ID :- 826,

▪ 3, Option ID :- 827,

▪ 4, Option ID :- 828,

Answer Given:- 4, Option ID : -828

Question ID:- 208

United States of America surpassed which country to become India's biggest trading partner in the year 2021-2022 ?

- (1) Russia
- (2) China
- (3) Soudi Arabia
- (4) Indonesia

वर्ष 2021-22 में भारत का सबसे बड़ा व्यापारिक भागीदार बनते हुए अमेरीका ने किस देश को पीछे छोड़ा ?

- (1) रूस
- (2) चीन
- (3) सउदी अरब
- (4) इंडोनेशिया

Options:-

▪ 1, Option ID :- 829,

▪ 2, Option ID :- 830,

▪ 3, Option ID :- 831,

▪ 4, Option ID :- 832,

Answer Given:- 2, Option ID : -830

Question ID:- 209

Consider the following statements :

- (a) Parliament in India has the power by law to provide for the abolition of the Legislative Council of a State.
- (b) The Legislative Assembly of the concerned state has no say in the matter of the abolition of the Legislative Council of a State

Choose the **correct** answer from the codes below:

- (1) (a) is correct but (b) is wrong
- (2) (a) is wrong but (b) is correct
- (3) Both (a) and (b) are correct
- (4) Neither (a) nor (b) is correct

निम्नलिखित कथनों पर विचार किजिए-

- (a) भारत में संसद को विधी के अनुसार किसी राज्य की विधान परिषद को समाप्त करने की शक्ति प्राप्त है
 - (b) संबंधित राज्य की विधान सभा को राज्य की विधान परिषद को समाप्त करने के मामले में कोई भूमिका नहीं होती है।
- नीचे दिए गए कूट से **सही** उत्तर का चयन किजिए :

- (1) (a) सही है किंतु (b) गलत है
- (2) (a) गलत है किंतु (b) सही है
- (3) (a) और ख, दोनों सही हैं
- (4) दोनों में से कोई भी सही नहीं है।

Options:-

- 1, Option ID :- 833,
- 2, Option ID :- 834,
- 3, Option ID :- 835,
- 4, Option ID :- 836,

Answer Given:- 3, Option ID : -835

Question ID:- 210

Assertion (A) : Bacteria are single-celled microorganisms without a nucleus.

Reason (R) : Bacteria are Eukaryotic organisms.

Choose the **correct** answer from the codes below :

- (1) (A) is correct but (R) is wrong
- (2) Both (A) and (R) are correct and (R) explain (A)
- (3) Both (A) and (R) are correct but (R) does not explain (A)
- (4) Neither (A), nor (R) is correct

अभिक्रथन (A) : जीवाणु बिना केन्द्रक वाले एककोशकीय सूक्ष्मजीव होते हैं।

तर्क (R) : जीवाणु ससीमकेन्द्रकी जीव होते हैं।

नीचे दिए गए कूट से सही उत्तर का चयन किजिए।

- (1) (A) सही है किंतु (R) गलत है
- (2) (A) और (R) दोनों सही हैं और (R), (A) को स्पष्ट करता है
- (3) (A) और (R) दोनों सही हैं किंतु (R), (A) को स्पष्ट नहीं करता है
- (4) दोनों में से कोई भी सही नहीं है।

Options:-

• 1, Option ID :- 837,

• 2, Option ID :- 838,

• 3, Option ID :- 839,

• 4, Option ID :- 840,

Answer Given:- 2, Option ID : -838

Subject : RA_Q31-Q35_PGTECO

Question ID:- 211

The given question is based on the following information :

$P \otimes Q$ means 'P' is the father of 'Q';

$P @ Q$ means 'P' is the mother of 'Q';

$P \% Q$ means 'P' is the son of 'Q';

$P \# Q$ means 'P' is the brother of 'Q';

If 'H # J \otimes L @ G % F', then how is 'F' related to 'J' ?

- (1) Son
- (2) Grandson
- (3) Son-in-law
- (4) Father

दिया गया प्रश्न निम्नलिखित जानकारी पर आधारित है।

'P \otimes Q' का अर्थ है - P, Q का पिता है;

'P @ Q' का अर्थ है - P, Q की माता है;

'P % Q' का अर्थ है - P, Q का पुत्र है;

'P # Q' का अर्थ है - P, Q का भाई है।

यदि 'H # J \otimes L @ G % F' है, तो 'F', 'J' से किस प्रकार सम्बन्धित है ?

- (1) पुत्र
- (2) पौत्र
- (3) दामाद
- (4) पिता

Options:-

• 1, Option ID :- 841,

• 2, Option ID :- 842,

• 3, Option ID :- 843,

- 4, Option ID :- 844,
Answer Given:- 3, Option ID : -843

Question ID:- 212

Three statements showing relationships have been given, which are followed by two conclusions (I) and (II). Assuming that the given statements are true, find out which of the conclusions is/are definitely true.

Statements : (1) $J \leq L$
(2) $L < M$
(3) $D \geq M$

Conclusions : (I) $D \geq J$
(II) $J < D$

- (1) Only conclusion (I) is true
(2) Only conclusion (II) is true
(3) Both conclusions (I) and (II) are true
(4) Neither conclusion (I) nor (II) is true

नीचे संबंध दर्शाने वाले तीन कथन दिए गए हैं जिनके बाद दो निष्कर्ष-(I) और (II) दिए गए हैं। यह मानते हुए कि दिए गए कथन सही हैं, यह ज्ञात कीजिए कि कौन सा/से निष्कर्ष निश्चित रूप से सही है/हैं ?

कथन : (1) $J \leq L$
(2) $L < M$
(3) $D \geq M$

निष्कर्ष : (I) $D \geq J$
(II) $J < D$

- (1) केवल निष्कर्ष (I) सही है
(2) केवल निष्कर्ष (II) सही है
(3) निष्कर्ष (I) और (II) दोनों, सही हैं
(4) दोनों निष्कर्षों में से कोई भी सही नहीं है।

Options:-

- 1, Option ID :- 845,
• 2, Option ID :- 846,
• 3, Option ID :- 847,
• 4, Option ID :- 848,
Answer Given:- 2, Option ID : -846

Question ID:- 213

Eight friends A, B, C, D, E, F, G and H are sitting around a circle, facing at the centre. 'C' is between 'E' and 'F'. 'G' is the neighbour of 'E'. 'F' is on the immediate right of 'B'. 'H' is on the immediate left of 'A'. 'H' is not the neighbour of 'D' or 'E'.

Which of the following statement is true ?

- (1) 'F' is the neighbour of 'G'
(2) 'G' is between 'H' and 'E'
(3) 'E' is between 'B' and 'F'
(4) 'H' is immediate neighbour of 'A' and 'D'

आठ मित्र A, B, C, D, E, F, G और H एक वृत्त के चारों ओर उसके केन्द्र की ओर मुँह करके बैठे हैं। 'C', 'E' और 'F' के बीच बैठा है। 'G', 'E' का पड़ोसी है। 'F', 'B' के एकदम दायीं ओर है। 'H', 'A' के एकदम बायीं ओर है। 'H', 'D' अथवा 'E' का पड़ोसी नहीं है।

निम्नलिखित में से कौन सा कथन सत्य है ?

- (1) 'F', 'G' का पड़ोसी है
- (2) 'G', 'H' और 'E' के बीच में है
- (3) 'E', 'B' और 'F' के बीच में है
- (4) 'H', 'A' और 'D' का एकदम पड़ोसी है।

Options:-

• 1, Option ID :- 849,

• 2, Option ID :- 850,

• 3, Option ID :- 851,

• 4, Option ID :- 852,

Answer Given:- 2, Option ID : -850

Question ID:- 214

Three statements are given followed by three conclusions (I), (II) and (III). You have to take these statements to be true, even if they seem to be at variance from commonly known facts. Decide which of the given conclusions logically follow(s) from the given statements

Statements :

- (1) Some plates are cups.
- (2) Some cups are tumblers.
- (3) All tumblers are spoons.

Conclusions :

- (I) Some spoons are cups
 - (II) Some cups are plates
 - (III) Some spoons are plates
- (1) Only conclusion (I) follows
 - (2) Only conclusion (III) follows
 - (3) Only conclusions (I) and (II) follow
 - (4) Only conclusions (II) and (III) follow

नीचे तीन कथन दिए गए हैं जिनके बाद तीन निष्कर्ष-(I), (II) और (III) दिए गए हैं। आपको इन कथनों को सही मानना है चाहे वे सामान्यतः ज्ञात तथ्यों से भिन्न क्यों न हों। यह निर्णय कीजिए कि कौन सा/से निष्कर्ष दिए गए कथनों से तार्किक रूप से निकलता है/हैं ?

कथन :

- (1) कुछ प्लेट कप हैं।
- (2) कुछ कप गिलास हैं।
- (3) सभी गिलास चम्मच हैं।

निष्कर्ष :

- (I) कुछ चम्मच कप हैं
 - (II) कुछ कप प्लेट हैं
 - (III) कुछ चम्मच प्लेट हैं
- (1) केवल निष्कर्ष (I) निकलता है
 - (2) केवल निष्कर्ष (III) निकलता है
 - (3) केवल निष्कर्ष (I) और (II) निकलता है
 - (4) केवल निष्कर्ष (II) और (III) निकलता है

Options:-

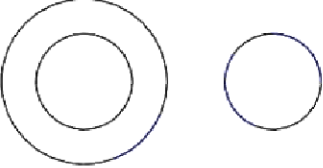
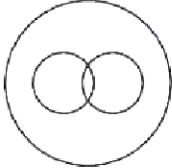
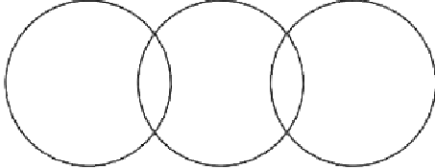
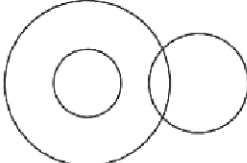
- 1, Option ID :- 853,
- 2, Option ID :- 854,
- 3, Option ID :- 855,
- 4, Option ID :- 856,

Answer Given:- 3, Option ID : -855

Question ID:- 215

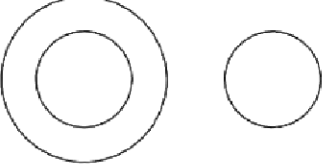
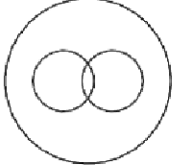
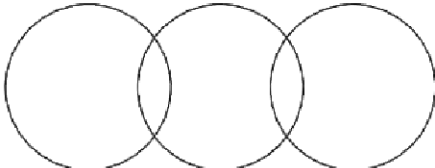
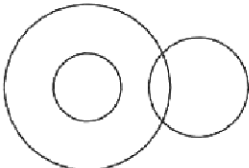
Choose the Venn diagram from the options which represents the correct relationship amongst the given classes :

Father, Infants, Males

- (1) 
- (2) 
- (3) 
- (4) 

दिए गए विकल्पों में से ऐसे वेन आरेख का चयन कीजिए जो दिए गए वर्गों के बीच सही संबंध को दर्शाता हो :

पिता, शिशु, पुरुष

- (1) 
- (2) 
- (3) 
- (4) 

Options:-

- 1, Option ID :- 857,
- 2, Option ID :- 858,
- 3, Option ID :- 859,
- 4, Option ID :- 860,

Answer Given:- 1, Option ID :- 857

Subject : CL_Q36-Q40_PGTECO

Question ID:- 216

Which of the following features is not included in paragraph formatting ?

- (1) Making text bold
- (2) Aligning text
- (3) Indenting text
- (4) Adjusting space between lines

पैराग्राफ फॉर्मेटिंग में कौन सी विशेषता शामिल नहीं है ?

- (1) टेक्स्ट को बोल्ट बनाना
- (2) टेक्स्ट को अलाइन करना
- (3) टेक्स्ट को इंडेंट करना
- (4) लाइनों के बीच स्पेस को एडजस्ट करना

Options:-

- 1, Option ID :- 861,
- 2, Option ID :- 862,

▪ 3, Option ID :- 863,

▪ 4, Option ID :- 864,

Answer Given:- 1, Option ID : -861

Question ID:- 217

The first slide of a presentation in MS-PowerPoint normally has the layout of :

- (1) Header slide
- (2) Content with caption
- (3) Section Header
- (4) Title Slide

एमएस-पावर प्वाइंट प्रेजेंटेशन की पहली स्लाइड में आमतौर पर _____ का ले-आउट होता है।

- (1) हेडर स्लाइड
- (2) क्पेन के साथ कंटेंट
- (3) सेक्शन हेडर
- (4) टाइटल स्लाइड

Options:-

▪ 1, Option ID :- 865,

▪ 2, Option ID :- 866,

▪ 3, Option ID :- 867,

▪ 4, Option ID :- 868,

Answer Given:- 4, Option ID : -868

Question ID:- 218

A software program that prohibits pop-up ads from web pages or actual pop-ups caused while coding is called _____.

- (1) Ad blocker
- (2) Popup blocker
- (3) Firewall
- (4) Spam blocker

एक सॉफ्टवेयर प्रोग्राम जो वेबपेजों से पॉप-अप एड्स या कोडिंग करते समय उत्पन्न वास्तविक पॉप-अप्स को निषिद्ध करता है, वह कहलाता है :

- (1) एड ब्लॉकर
- (2) पॉप-अप ब्लॉकर
- (3) फायरवाल
- (4) स्पैम ब्लॉकर

Options:-

▪ 1, Option ID :- 869,

▪ 2, Option ID :- 870,

▪ 3, Option ID :- 871,

- 4, Option ID :- 872,
Answer Given:- 2, Option ID : -870

Question ID:- 219

The _____ key(s) acts as a toggle key.

- (1) Caps lock and Insert
- (2) Shift and Insert
- (3) Shift and Caps lock
- (4) Shift and Ctrl

_____ कीज एक टोगल कीज के रूप में काम करती हैं।

- (1) कैप्स लॉक एंड इन्सर्ट
- (2) शिफ्ट एंड इन्सर्ट
- (3) शिफ्ट एंड कैप्सलॉक
- (4) शिफ्ट एंड Ctrl

Options:-

- 1, Option ID :- 873,
- 2, Option ID :- 874,
- 3, Option ID :- 875,
- 4, Option ID :- 876,
Answer Given:- 3, Option ID : -875

Question ID:- 220

Which key combination is used to indent a paragraph in MS-Word ?

- (1) Ctrl +N
- (2) Ctrl+O
- (3) Ctrl +P
- (4) Ctrl +M

एमएस-वर्ड में एक पैराग्राफ को इंडेंट करने के लिए कौन सा की संयोजन प्रयोग किया जाता है ?

- (1) Ctrl +N
- (2) Ctrl+O
- (3) Ctrl +P
- (4) Ctrl +M

Options:-

- 1, Option ID :- 877,
- 2, Option ID :- 878,
- 3, Option ID :- 879,
- 4, Option ID :- 880,
Answer Given:- 4, Option ID : -880

Subject : UL_Q41-Q55_PGTECO

Question ID:- 221

What do you understand by 'Development' in child's growth ?

- (1) Irreversible Quantitative change while child grows
- (2) Reversible Quantitative change
- (3) Qualitative change while child grows
- (4) Irreversible Qualitative change

बालक की संवृद्धि में 'विकास' से आपका क्या तात्पर्य है ?

- (1) बालक की वृद्धि के क्रम में गैर-व्युत्क्रमणीय गुणात्मक परिवर्तन
- (2) व्युत्क्रमणीय गुणात्मक परिवर्तन
- (3) बालक की वृद्धि के क्रम में होनेवाला गुणात्मक परिवर्तन
- (4) गैर-व्युत्क्रमणीय गुणात्मक परिवर्तन

Options:-

- 1, Option ID :- 881,
- 2, Option ID :- 882,
- 3, Option ID :- 883,
- 4, Option ID :- 884,

Answer Given:- 4, Option ID : -884

Question ID:- 222

The following example would best explain 'Moral domain' of the child ?

- (1) Argument with friend on social conflict
- (2) Differentiating between Good and Bad
- (3) Crying over pet dog's death
- (4) Distribution of Birthday sweets

निम्नांकित में से किस उदाहरण से बालक के 'नैतिक क्षेत्र' की सर्वोत्तम व्याख्या हो सकती है ?

- (1) सामाजिक संघर्ष के बारे में मित्र से विवाद
- (2) उत्तम और बुरे के मध्य विभेद करना
- (3) पालतू श्वान के निधन पर रोना
- (4) जन्मदिन के अवसर पर मिठाइयाँ बांटना

Options:-

- 1, Option ID :- 885,
- 2, Option ID :- 886,
- 3, Option ID :- 887,
- 4, Option ID :- 888,

Answer Given:- 2, Option ID : -886

Question ID:- 223

Which one of the following is an example of Primary Socialising Agency in Education ?

- (1) School
- (2) Media
- (3) Family
- (4) Home

निम्नांकित में से क्या शिक्षा के क्षेत्र में प्राथमिक सामाजीकरण एजेंसी का उदाहरण है ?

- (1) स्कूल
- (2) मीडिया
- (3) परिवार
- (4) गृह

Options:-

- 1, Option ID :- 889,
- 2, Option ID :- 890,
- 3, Option ID :- 891,
- 4, Option ID :- 892,

Answer Given:- 3, Option ID : -891

Question ID:- 224

Which one of the following could be attributed to 'Affective domain' in child's development ?

- (1) Feeling
- (2) Crying
- (3) Swimming
- (4) Thinking

निम्नांकित में से किसे बालक के विकास में 'भावनात्मक क्षेत्र' माना जा सकता है ?

- (1) अनुभूति
- (2) रूदन
- (3) तैराकी
- (4) चिंतन

Options:-

- 1, Option ID :- 893,
- 2, Option ID :- 894,
- 3, Option ID :- 895,
- 4, Option ID :- 896,

Answer Given:- 1, Option ID : -893

Question ID:- 225

'Maturation' in child's development is very crucial for _____.

- (1) Dancing
- (2) Learning
- (3) Playing
- (4) Singing

बालक के विकास में निम्नांकित में से किसके लिए 'परिपक्वता' प्रमुख तत्व है ?

- (1) नृत्य
- (2) अधिगम
- (3) खेलना
- (4) गायन

Options:-

- 1, Option ID :- 897,
- 2, Option ID :- 898,
- 3, Option ID :- 899,
- 4, Option ID :- 900,

Answer Given:- 2, Option ID : -898

Question ID:- 226

The active participation of the child in classroom falls under :

- (1) Social learning
- (2) Emotional learning
- (3) Cognitive learning
- (4) Experimental learning

कक्षा में बालक की सक्रिय सहभागिता निम्नांकित में से किसके अंतर्गत आती है ?

- (1) सामाजिक अधिगम
- (2) भावनात्मक अधिगम
- (3) संज्ञानात्मक अधिगम
- (4) प्रायोगिक अधिगम

Options:-

- 1, Option ID :- 901,
- 2, Option ID :- 902,
- 3, Option ID :- 903,
- 4, Option ID :- 904,

Answer Given:- 3, Option ID : -903

Question ID:- 227

The act of 'Driving car' comes under :

- (1) Affective domain
- (2) Psychomotor domain
- (3) Emotional domain
- (4) Cognitive domain

मोटरकार चलाने का कार्य निम्नांकित में से किसके अंतर्गत आता है ?

- (1) भावनात्मक क्षेत्र
- (2) मनोर्यात्रिक क्षेत्र
- (3) संवेदनात्मक क्षेत्र
- (4) संज्ञानात्मक क्षेत्र

Options:-

- 1, Option ID :- 905,
- 2, Option ID :- 906,
- 3, Option ID :- 907,
- 4, Option ID :- 908,

Answer Given:- 2, Option ID : -906

Question ID:- 228

'Empathy' is an essential trait of _____.

- (1) Teacher
- (2) Doctor
- (3) Professional counsellor
- (4) Lawyer

'तदनुभूति' निम्नांकित में से किसका अनिवार्य लक्षण है ?

- (1) अध्यापक
- (2) चिकित्सक
- (3) व्यावसायिक परामर्शदाता
- (4) वकील

Options:-

- 1, Option ID :- 909,
- 2, Option ID :- 910,
- 3, Option ID :- 911,
- 4, Option ID :- 912,

Answer Given:- 1, Option ID : -909

Question ID:- 229

The following could be an example of physical disability :

- (1) Cerebral Palsy
- (2) Autism
- (3) Dyslexia
- (4) Dysgraphia

निम्नांकित में से क्या शारीरिक दिव्यांगता का उदाहरण हो सकता है ?

- (1) सेरेब्रल पाल्सी (प्रमस्तिष्कीय घात)
- (2) ऑटिज्म
- (3) डिस्लेक्सिया
- (4) डिस्ग्राफिया

Options:-

• 1, Option ID :- 913,

• 2, Option ID :- 914,

• 3, Option ID :- 915,

• 4, Option ID :- 916,

Answer Given:- 2, Option ID : -914

Question ID:- 230

Which one of the following can be attributed to 'Cognitivism' ?

- (1) Drawing
- (2) Painting
- (3) Problem-solving
- (4) Rote memory

निम्नांकित में से किसे 'संज्ञानात्मकवाद' की संज्ञा दी जा सकती है ?

- (1) चित्रकला
- (2) पेंटिंग
- (3) समस्या-समाधान
- (4) रटंत स्मृति

Options:-

• 1, Option ID :- 917,

• 2, Option ID :- 918,

• 3, Option ID :- 919,

• 4, Option ID :- 920,

Answer Given:- 3, Option ID : -919

Question ID:- 231

Which one of the following is the secondary socialising agency in the context of learning ?

- (1) Family
- (2) Home
- (3) School
- (4) Media

अधिगम के संदर्भ में निम्नांकित में से क्या द्वितीयक सामाजीकरण एजेंसी है ?

- (1) परिवार
- (2) गृह
- (3) विद्यालय
- (4) जनसंचार माध्यम

Options:-

- 1, Option ID :- 921,
- 2, Option ID :- 922,
- 3, Option ID :- 923,
- 4, Option ID :- 924,

Answer Given:- 3, Option ID : -923

Question ID:- 232

The 'Learning' at home comes under :

- (1) Contextual Learning
- (2) Formal Learning
- (3) Informal Learning
- (4) Non-formal Learning

Options:-

- 1, Option ID :- 925,
- 2, Option ID :- 926,
- 3, Option ID :- 927,
- 4, Option ID :- 928,

Answer Given:- 3, Option ID : -927

Question ID:- 233

Options:-

- 1, Option ID :- 929,
- 2, Option ID :- 930,
- 3, Option ID :- 931,
- 4, Option ID :- 932,

pgtprime.com

pgtprime.com

Question ID:- 234

Options:-

- 1, Option ID :- 933,
- 2, Option ID :- 934,
- 3, Option ID :- 935,
- 4, Option ID :- 936,

Answer Given:- 2, Option ID : -934

Question ID:- 235

What is the role of 'Maturation' in learning ?

- (1) It determines readiness in learning
- (2) It facilitates achieving milestones
- (3) It promotes memory
- (4) It would fix learning goals

अधिगम में परिपक्वता की क्या भूमिका है ?

- (1) इससे अधिगम के लिए तत्परता निर्धारित होती है।
- (2) इससे निर्धारित लक्ष्य प्राप्त करने में आसानी होती है।
- (3) इससे स्मरण शक्ति विकसित होती है।
- (4) इससे अधिगम के लक्ष्य नियत होंगे।

Options:-

- 1, Option ID :- 937,
- 2, Option ID :- 938,
- 3, Option ID :- 939,
- 4, Option ID :- 940,

Answer Given:- 1, Option ID : -937

Subject : UTL_Q56-Q70_PGTECO

Question ID:- 236

Spenser describes education as :

- (1) Self learning
- (2) Preparation for life
- (3) Complete living
- (4) Meaningful life

स्पेंसर के अनुसार शिक्षा है :

- (1) स्व-अधिगम
- (2) जीवन की तैयारी
- (3) पूर्ण जीवन-निर्वाह
- (4) सार्थक जीवन

Options:-

- 1, Option ID :- 941,
- 2, Option ID :- 942,
- 3, Option ID :- 943,
- 4, Option ID :- 944,

Answer Given:- 1, Option ID : -941

Question ID:- 237

The behavioural learning theory is associated with :

- (1) Environment
- (2) Stimulus - response
- (3) Peer pressure
- (4) Heredity

व्यवहारात्मक अधिगम सिद्धांत निम्नांकित में से किससे संबंधित है ?

- (1) पर्यावरण
- (2) उद्दीपन-अनुक्रिया
- (3) समकक्षीय दबाव
- (4) आनुवंशिकता

Options:-

- 1, Option ID :- 945,
- 2, Option ID :- 946,
- 3, Option ID :- 947,
- 4, Option ID :- 948,

Answer Given:- 1, Option ID : -945

Question ID:- 238

Name the branch of philosophy that propounded project method :

- (1) Naturalism
- (2) Idealism
- (3) Pragmatism
- (4) Realism

दर्शनशास्त्र की शाखा जिसने परियोजना विधि प्रदान की, क्या है ?

- (1) प्रकृतिवाद
- (2) आदर्शवाद
- (3) व्यावहारिकतावाद
- (4) यथार्थवाद

Options:-

- 1, Option ID :- 949,
- 2, Option ID :- 950,
- 3, Option ID :- 951,
- 4, Option ID :- 952,

Answer Given:- 3, Option ID : -951

Question ID:- 239

What is constructivism in learning ?

- (1) Learning through logic
- (2) Learning by doing
- (3) The learner develops knowledge with the help of previous knowledge
- (4) Learning by memory

अधिगम में रचनावाद से क्या अभिप्रेत है ?

- (1) तर्क के माध्यम से अधिगम
- (2) कार्यकरण के माध्यम से
- (3) अधिगमकर्ता अपने पूर्व अर्जित ज्ञान की सहायता से ज्ञान विकसित करता है।
- (4) स्मृति के माध्यम से अधिगम

Options:-

- 1, Option ID :- 953,
- 2, Option ID :- 954,
- 3, Option ID :- 955,
- 4, Option ID :- 956,

Answer Given:- 3, Option ID : -955

Question ID:- 240

According to psychologists-what is 'learning' ?

- (1) Directed behaviour
- (2) Positive altered behaviour
- (3) Focused behaviour
- (4) Fixed behaviour

मनोवैज्ञानिकों के अनुसार 'अधिगम' क्या है ?

- (1) निदेशित व्यवहार
- (2) सकारात्मक परिवर्तित व्यवहार
- (3) केन्द्रित व्यवहार
- (4) नियत व्यवहार

Options:-

▪ 1, Option ID :- 957,

▪ 2, Option ID :- 958,

▪ 3, Option ID :- 959,

▪ 4, Option ID :- 960,

Answer Given:- 2, Option ID : -958

Question ID:- 241

What should be the ideal classroom environment for effective learning ?

- (1) Well decorated classroom
- (2) Well ventilated classroom
- (3) Well equipped with A.V aids classroom
- (4) Non-threatening and supportive environment

प्रभावी अधिगम के लिए आदर्श कक्षा कक्ष-परिवेश में क्या विद्यमान होना चाहिए ?

- (1) सुसज्जित कक्षा
- (2) बिल्कुल उत्तम वातायनयुक्त कक्षा
- (3) श्रुत्य दृश्य उपकरणयुक्त कक्षा
- (4) भयमुक्त और सहायक माहौल

Options:-

▪ 1, Option ID :- 961,

▪ 2, Option ID :- 962,

▪ 3, Option ID :- 963,

▪ 4, Option ID :- 964,

Answer Given:- 4, Option ID : -964

Question ID:- 242

Learning by doing is example of :

- (1) Activity based learning
- (2) Experiential learning
- (3) Cognitive learning
- (4) Classical learning

कार्यकरण के माध्यम से अधिगम निम्नांकित में से किसका उदाहरण है?

- (1) क्रिया आधारित अधिगम
- (2) अनुभवात्मक अधिगम
- (3) संज्ञानात्मक अध्ययन
- (4) शास्त्रीय अधिगम

Options:-

▪ 1, Option ID :- 965,

▪ 2, Option ID :- 966,

▪ 3, Option ID :- 967,

▪ 4, Option ID :- 968,

Answer Given:- 1, Option ID : -965

Question ID:- 243

A student found helping the blindman to cross the road. It comes under :

- (1) Social activity
- (2) Community service
- (3) Hidden curriculum
- (4) Morality

एक विद्यार्थी को किसी अंधे व्यक्ति को सड़क पार कराते हुए देखा गया। यह कृत्य निम्नांकित में से किसकी श्रेणी में आएगा ?

- (1) सामाजिक कार्य
- (2) सामुदायिक सेवा
- (3) अप्रकट पाठ्यचर्या
- (4) नैतिकता

Options:-

▪ 1, Option ID :- 969,

▪ 2, Option ID :- 970,

▪ 3, Option ID :- 971,

▪ 4, Option ID :- 972,

Answer Given:- 4, Option ID : -972

Question ID:- 244

A Democratic curriculum should have the following character :

- (1) Entertainment
- (2) Leisure
- (3) Study tour
- (4) Development of integrated personality

लोकतांत्रिक पाठ्यक्रम में निम्नांकित में से कौन सा अवयव होना चाहिए ?

- (1) मनोरंजन
- (2) अवकाश
- (3) अध्ययन दौरा
- (4) एकीकृत व्यक्तित्व का विकास

Options:-

▪ 1, Option ID :- 973,

▪ 2, Option ID :- 974,

▪ 3, Option ID :- 975,

▪ 4, Option ID :- 976,

Answer Given:- 4, Option ID : -976

Question ID:- 245

ICT applications in school education enhances :

- (1) Enhances peer learning
- (2) Creativity and thinking skills
- (3) Interest
- (4) Attention

स्कूली शिक्षा में आई सी टी के अनुप्रयोग से निम्नांकित में से किसका संवर्धन होता है ?

- (1) इससे समकक्षीय अधिगम में अभिवृद्धि होती है।
- (2) इससे सृजनशीलता और चिन्तन कौशल बढ़ता है।
- (3) अभिरुचि बढ़ती है।
- (4) ध्यान बढ़ता है।

Options:-

▪ 1, Option ID :- 977,

▪ 2, Option ID :- 978,

▪ 3, Option ID :- 979,

▪ 4, Option ID :- 980,

Answer Given:- 2, Option ID : -978

Question ID:- 246

What is the purpose of assessment in school education ?

- (1) To measure ability of understanding
- (2) To assess the subject knowledge
- (3) Remediation and counselling
- (4) To find out weak areas of the child

स्कूली शिक्षा में आकलन का क्या प्रयोजन है ?

- (1) समझ की योग्यता का मापन
- (2) विषय ज्ञान का मूल्यांकन
- (3) समाधान और परामर्श
- (4) बालकों के दुर्बल पक्ष जानना

Options:-

▪ 1, Option ID :- 981,

▪ 2, Option ID :- 982,

▪ 3, Option ID :- 983,

▪ 4, Option ID :- 984,

Answer Given:- 3, Option ID : -983

Question ID:- 247

The students can learn better through the activities :

- (1) Conducted in school
- (2) Conducted out side the school
- (3) Involvement of students in various community related program
- (4) School laboratory

विद्यार्थी निम्नांकित में से किन कार्यक्रमों के माध्यम से बेहतर अधिगम प्राप्त कर सकता है ?

- (1) विद्यालय में आयोजित
- (2) विद्यालय से बाहर आयोजित
- (3) विभिन्न सामुदायिक कार्यक्रमों में विद्यार्थियों की भागीदारी
- (4) विद्यालय की प्रयोगशाला

Options:-

▪ 1, Option ID :- 985,

▪ 2, Option ID :- 986,

▪ 3, Option ID :- 987,

▪ 4, Option ID :- 988,

Answer Given:- 3, Option ID : -987

Question ID:- 248

Which of the following quality is essential among school leaders ?

- (1) Democratic attitude
- (2) Transformation leadership
- (3) Dictatorship
- (4) Servant leadership

विद्यालय के नेताओं में निर्माकित में से किस गुण का होना अनिवार्य है?

- (1) लोकतांत्रिक अभिवृत्ति
- (2) रूपांतरकारी नेतृत्व
- (3) तानाशाही
- (4) नौकर-नेतृत्व

Options:-

- 1, Option ID :- 989,
- 2, Option ID :- 990,
- 3, Option ID :- 991,
- 4, Option ID :- 992,

Answer Given:- 1, Option ID : -989

Question ID:- 249

What should be the quality of school development plan ?

- (1) Adequate fund should be provides
- (2) Teachers training program to be carried out
- (3) Should have scope for student activities
- (4) It should take care of all living and non-living resources for the healthy development of the school

विद्यालय विकास योजना की गुणवत्ता क्या होनी चाहिए ?

- (1) पर्याप्त निधियाँ प्रदान की जानी चाहिए।
- (2) शिक्षक प्रशिक्षण कार्यक्रम आयोजित किया जाना चाहिए।
- (3) विद्यार्थी के कार्यक्रमलाप के निमित्त पर्याप्त गुंजाइश होनी चाहिए।
- (4) इसमें स्कूल के स्वस्थ विकास के लिए सजीव और निर्जीव दोनों संसाधनों का ध्यान रखा जाना चाहिए।

Options:-

- 1, Option ID :- 993,
- 2, Option ID :- 994,
- 3, Option ID :- 995,
- 4, Option ID :- 996,

Answer Given:- 4, Option ID : -996

Question ID:- 250

What is the quality of good time-table in school ?

- (1) It should take care of co-curricular activities
- (2) It should take care the requirement of teachers, students and administration
- (3) It should take care of leisure time activities
- (4) It should take care of exam schedule

विद्यालय में उत्तम समय-तालिका में क्या गुण होना चाहिए ?

- (1) इसमें सह-पाठ्यचर्या का ध्यान रखा जाना चाहिए।
- (2) इसमें अध्यापकों, विद्यार्थियों और प्रशासन की आवश्यकता का ध्यान रखा जाना चाहिए।
- (3) इसमें अवकाश के समय में की जाने वाली गतिविधियों का ध्यान रखा जाना चाहिए।
- (4) इसमें परीक्षा की अनुसूची (शेड्यूल) का ध्यान रखा जाना चाहिए।

Options:-

- 1, Option ID :- 997,
- 2, Option ID :- 998,
- 3, Option ID :- 999,
- 4, Option ID :- 1000,

Answer Given:- 1, Option ID : -997

Subject : CCLE SOL PE_Q71-Q80_PGTECO

Question ID:- 251

What is dysgraphia ?

- (1) Inability to speak
- (2) Inability to learn
- (3) Inability to write
- (4) Inconsistent use of letters

'डिसग्राफिया' क्या है ?

- (1) वाक् अक्षमता
- (2) अधिगम अक्षमता
- (3) लेखन अक्षमता
- (4) वर्णों का असंगत प्रयोग

Options:-

- 1, Option ID :- 1001,
- 2, Option ID :- 1002,
- 3, Option ID :- 1003,
- 4, Option ID :- 1004,

Answer Given:- 3, Option ID : -1003

Question ID:- 252

What is the Quantum of Punishment Prescribed for discrimination against Divyangjan ?

- (1) Fine upto Rs. 5 lakhs and imprisonment upto 5 years
- (2) Fine upto Rs. 5 lakhs and imprisonment upto 2 years
- (3) Fine upto Rs. 50000 and imprisonment upto 1 year
- (4) Fine upto Rs. 1 lakh and imprisonment upto 10 years

दिव्यांगजन के साथ भेदभाव करने की दशा में कितनी सजा देने का प्रावधान है ?

- (1) 5 लाख रु. तक का जुर्माना और 5 वर्ष तक का कारावास
- (2) 5 लाख रु. तक का जुर्माना और 2 वर्ष तक का कारावास
- (3) 5,000 रु. तक का जुर्माना और 1 वर्ष का कारावास
- (4) 1 लाख रु. का जुर्माना और 10 वर्ष तक का कारावास

Options:-

▪ 1, Option ID :- 1005,

▪ 2, Option ID :- 1006,

▪ 3, Option ID :- 1007,

▪ 4, Option ID :- 1008,

Answer Given:- 3, Option ID : -1007

Question ID:- 253

What is the major challenge in schools to address mental health issues among children ?

- (1) Lack of Infrastructure
- (2) Lack of Funds
- (3) Lack of Professional Counsellors
- (4) Lack of will to do

स्कूल में बालकों की मानसिक स्वास्थ्य संबंधी समस्याओं के निवारण में एक बड़ी चुनौती है ?

- (1) अवसंरचना का अभाव
- (2) निधियों का अभाव
- (3) व्यवसायिक परामर्शदाताओं की कमी
- (4) कार्य करने की इच्छा नहीं होना

Options:-

▪ 1, Option ID :- 1009,

▪ 2, Option ID :- 1010,

▪ 3, Option ID :- 1011,

▪ 4, Option ID :- 1012,

Answer Given:- 3, Option ID : -1011

Question ID:- 254

Suggest one example of creating partnership with the industry.

- (1) Orientation Programmes
- (2) School visit to Industry as a study tour
- (3) Through vocational training
- (4) Industry shares the resources with the schools

उद्योग के साथ साझेदारी के संदर्भ में निम्नोक्त में से एक उदाहरण सुझाव दीजिए।

- (1) परिवोधन कार्यक्रम
- (2) अध्ययन दौर के रूप में विद्यालय का उद्योग में दौरा
- (3) व्यवसायिक प्रशिक्षण के माध्यम से
- (4) उद्योग को विद्यालयों के साथ अपने संसाधनों को साझा करना चाहिए

Options:-

• 1, Option ID :- 1013,

• 2, Option ID :- 1014,

• 3, Option ID :- 1015,

• 4, Option ID :- 1016,

Answer Given:- 2, Option ID : -1014

Question ID:- 255

What is significance of excursion in school education ?

- (1) Entertainment
- (2) Promotes belongingness among the children
- (3) To break monetary
- (4) Part of Project Work

विद्यालयी शिक्षा में शिक्षण-दौरों का क्या महत्व है ?

- (1) मनोरंजन
- (2) इससे बालकों में आत्मीयता की भावना उत्पन्न होगी
- (3) एकांतता का भाव दूर करना
- (4) परियोजना कार्य का भाग

Options:-

• 1, Option ID :- 1017,

• 2, Option ID :- 1018,

• 3, Option ID :- 1019,

• 4, Option ID :- 1020,

Answer Given:- 2, Option ID : -1018

Question ID:- 256

What is the 'Living corner in school' ?

- (1) Aquarium
- (2) Park
- (3) Garden
- (4) Play field

स्कूल में 'लिविंग कॉर्नर' (जीवंत अध्ययन स्रोत) क्या है ?

- (1) एक्वेरियम
- (2) पार्क
- (3) गार्डन
- (4) खेल का मैदान

Options:-

- 1, Option ID :- 1021,
- 2, Option ID :- 1022,
- 3, Option ID :- 1023,
- 4, Option ID :- 1024,

Answer Given:- 3, Option ID : -1023

Question ID:- 257

What is the disadvantage of self assessment ?

- (1) Reluctant to accept weak areas of the school
- (2) Unhealthy comparison with other schools
- (3) Self contented attitude
- (4) Schools tend to be biased

स्व-आकलन से क्या हानि है ?

- (1) इससे विद्यालय के दुर्बल पक्ष को स्वीकार करने में हिचक रहती है।
- (2) अन्य विद्यालयों के साथ स्वस्थ तुलना नहीं होती है।
- (3) आत्म संतुष्टि की अभिवृत्ति।
- (4) विद्यालयों में पक्षपात पूर्ण रवैया अपनाने की प्रवृत्ति होती है।

Options:-

- 1, Option ID :- 1025,
- 2, Option ID :- 1026,
- 3, Option ID :- 1027,
- 4, Option ID :- 1028,

Answer Given:- 3, Option ID : -1027

Question ID:- 258

NCF 2005 recommends :

- (1) Developments of school infrastructure
- (2) Better funding for school education
- (3) reducing teacher pupil ratio
- (4) connecting knowledge to life

एनसीएफ (राष्ट्रीय पाठ्यचर्या रूपरेखा), 2005 में निम्नांकित में से क्या सिफारिश की गई है ?

- (1) विद्यालय की अवसंरचना को विकसित करना
- (2) विद्यालय में शिक्ष के लिए बेहतर निधियन
- (3) अध्यापक शिष्य अनुपात को कम करना
- (4) ज्ञान को जीवन से संबद्ध करना

Options:-

• 1, Option ID :- 1029,

• 2, Option ID :- 1030,

• 3, Option ID :- 1031,

• 4, Option ID :- 1032,

Answer Given:- 4, Option ID : -1032

Question ID:- 259

The newly proposed design of school curriculum is :

- (1) 10 + 2 + 2 + 1
- (2) 5 + 3 + 3 + 4
- (3) 5 + 2 + 3 + 5
- (4) 4 + 3 + 4 + 4

विद्यालय की पाठ्यचर्या के लिए नव प्रस्तावित अभिकल्प है :

- (1) 10 + 2 + 2 + 1
- (2) 5 + 3 + 3 + 4
- (3) 5 + 2 + 3 + 5
- (4) 4 + 3 + 4 + 4

Options:-

• 1, Option ID :- 1033,

• 2, Option ID :- 1034,

• 3, Option ID :- 1035,

• 4, Option ID :- 1036,

Answer Given:- 2, Option ID : -1034

Question ID:- 260

RTE Act, 2009 section 19 deals with :

- (1) Transfer of students
- (2) Recruitment of teachers
- (3) Prohibition of unrecognized schools
- (4) Formation of school management committee

शिक्षा का अधिकार अधिनियम, 2009 की धारा 19 में निम्नोक्त में से किसका उपबंध किया गया है ?

- (1) विद्यार्थियों का स्थानांतरण
- (2) अध्यापकों की भर्ती
- (3) गैर-मान्यता प्राप्त विद्यालयों का प्रतिषेध
- (4) विद्यालय प्रबंधन समिति का निर्माण

Options:-

▪ 1, Option ID :- 1037,

▪ 2, Option ID :- 1038,

▪ 3, Option ID :- 1039,

▪ 4, Option ID :- 1040,

Answer Given:- 4, Option ID : -1040

Subject : ECO_Q81-Q180_PGTECO

Question ID:- 261

What will be the value of Mode if value of Median is 35 and value of Mean is 30 ?

- (1) 45
- (2) 35
- (3) 32.5
- (4) 30

यदि माध्यिका का मूल्य 35 एवं माध्य का मूल्य 30 है तो बहुलक का मूल्य क्या होगा ?

- (1) 45
- (2) 35
- (3) 32.5
- (4) 30

Options:-

▪ 1, Option ID :- 1041,

▪ 2, Option ID :- 1042,

▪ 3, Option ID :- 1043,

▪ 4, Option ID :- 1044,

Answer Given:- 1, Option ID : -1041

Question ID:- 262

Marks obtained by nine students in economics are the following :

50, 58, 62, 63, 66, 69, 71, 72 and 75. What will be the Median Marks ?

- (1) 63
- (2) 66
- (3) 69
- (4) 71

अर्थशास्त्र विषय में 9 छात्रों द्वारा प्राप्त अंक इस प्रकार हैं :

50, 58, 62, 63, 66, 69, 71, 72 एवं 75

माध्यिका अंक का मूल्य क्या होगा ?

- (1) 63
- (2) 66
- (3) 69
- (4) 71

Options:-

▪ 1, Option ID :- 1045,

▪ 2, Option ID :- 1046,

▪ 3, Option ID :- 1047,

▪ 4, Option ID :- 1048,

Answer Given:- 2, Option ID : -1046

Question ID:- 263

The Mean marks of 100 students were found to be 50. Later on it was found that a score of 55 was misread as 85. What will be the correct value of Mean ?

- (1) 45.5
- (2) 48.7
- (3) 49.7
- (4) 50.5

100 विद्यार्थियों के अंकों का माध्य अंक 50 पाया गया। बाद में पता चला कि एक अंक को 55 के बजाय गलती से 85 समझा गया था। माध्य का सही मूल्य क्या है ?

- (1) 45.5
- (2) 48.7
- (3) 49.7
- (4) 50.5

Options:-

▪ 1, Option ID :- 1049,

▪ 2, Option ID :- 1050,

▪ 3, Option ID :- 1051,

▪ 4, Option ID :- 1052,

Answer Given:- 3, Option ID : -1051

Question ID:- 264

Followings are the Marks of 10 students in statistics in class 12th examination :

48, 50, 36, 48, 72, 90, 47, 60, 48, 36.

What will be the value of Mode ?

- (1) 36
- (2) 48
- (3) 50
- (4) 47

बारहवीं कक्षा की परीक्षा में सांख्यिकी विषय में 10 विद्यार्थियों के अंक निम्नलिखित हैं;

48, 50, 36, 48, 72, 90, 47, 60, 48, 36

बहुलक का मूल्य क्या होगा ?

- (1) 36
- (2) 48
- (3) 50
- (4) 47

Options:-

• 1, Option ID :- 1053,

• 2, Option ID :- 1054,

• 3, Option ID :- 1055,

• 4, Option ID :- 1056,

Answer Given:- 2, Option ID : -1054

Question ID:- 265

Identify the correct formula of Harmonic Mean :

(1) $\frac{N}{\sum(X-1)}$

(2) $\frac{N}{\sum(1/X)}$

(3) $\frac{N}{\sum(X+1)}$

(4) $\frac{NX}{\sum X}$

सत्रादी माध्य के सही सूत्र को पहचानें :

$$(1) \frac{N}{\Sigma(X-1)}$$

$$(2) \frac{N}{\Sigma(1/X)}$$

$$(3) \frac{N}{\Sigma(X+1)}$$

$$(4) \frac{NX}{\Sigma X}$$

Options:-

• 1, Option ID :- 1057,

• 2, Option ID :- 1058,

• 3, Option ID :- 1059,

• 4, Option ID :- 1060,

Answer Given:- 2, Option ID : -1058

Question ID:- 266

What will be the value of standard deviation of the following series ?

10, 20, 30, 40, 50, 60, 70

(1) 10

(2) 15

(3) 20

(4) 30

निम्नलिखित सीरीज के मानक विचलन का मूल्य क्या होगा ?

10, 20, 30, 40, 50, 60, 70

(1) 10

(2) 15

(3) 20

(4) 30

Options:-

• 1, Option ID :- 1061,

• 2, Option ID :- 1062,

• 3, Option ID :- 1063,

• 4, Option ID :- 1064,

Answer Given:- 1, Option ID : -1061

Question ID:- 267

Time reversal test is satisfied when ?

- (1) $P_{01} \times P_{10} = 0$
- (2) $P_{01} \times P_{10} > 1$
- (3) $P_{01} \times P_{10} = 1$
- (4) $P_{01} \times P_{10} < 1$

समय - उत्क्राम्यता परीक्षण संतुष्ट होता है, जब :

- (1) $P_{01} \times P_{10} = 0$
- (2) $P_{01} \times P_{10} > 1$
- (3) $P_{01} \times P_{10} = 1$
- (4) $P_{01} \times P_{10} < 1$

Options:-

• 1, Option ID :- 1065,

• 2, Option ID :- 1066,

• 3, Option ID :- 1067,

• 4, Option ID :- 1068,

Answer Given:- 3, Option ID : -1067

Question ID:- 268

Which of the following is/are correct ?

- (A) In the short-run, As long as average product increases, marginal product is greater than the average product.
 - (B) The average product starts declining before the marginal product.
- (1) Only (A) is correct
 - (2) Only (B) is correct
 - (3) Both (A) and (B) are correct
 - (4) Both (A) and (B) are incorrect

निम्नलिखित में से कौन-सा सही है ?

- (A) अल्पकाल में, जब तक औसत उत्पाद बढ़ रहा होता है, सीमान्त उत्पाद, औसत उत्पाद से अधिक होता है।
 - (B) औसत उत्पाद, सीमान्त उत्पाद से पहले घटना शुरू हो जाता है।
- (1) केवल (A) सही है
 - (2) केवल (B) सही है
 - (3) (A) एवं (B) दोनों सही हैं
 - (4) (A) एवं (B) दोनों गलत हैं

Options:-

• 1, Option ID :- 1069,

• 2, Option ID :- 1070,

• 3, Option ID :- 1071,

• 4, Option ID :- 1072,

Question ID:- 269

Which of the following is incorrect ?

- (1) $TFC = AFC \times \text{quantity}$
- (2) $AVC = TVC/\text{output}$
- (3) $SAC = AVC + AFC$
- (4) $SMC = TC/\text{quantity}$

निम्नलिखित में से कौन-सा सही नहीं है ?

- (1) $TFC = AFC \times \text{quantity}$ (मात्रा)
- (2) $AVC = TVC/\text{output}$ (उत्पादन)
- (3) $SAC = AVC + AFC$
- (4) $SMC = TC/\text{quantity}$ (मात्रा)

Options:-

• 1, Option ID :- 1073,

• 2, Option ID :- 1074,

• 3, Option ID :- 1075,

• 4, Option ID :- 1076,

Answer Given:- 4, Option ID : -1076

Question ID:- 270

In a Cobb - Douglas production function :

$$q = x_1^\alpha + x_2^\beta$$

If $\alpha + \beta > 1$, then the production function exhibits :

- (1) Increasing returns to scale
- (2) Constant returns to scale
- (3) Decreasing returns to scale
- (4) Cannot be determined on the basis of this information.

एक काब डॉगलास उत्पादन फलन में :

$$q = x_1^\alpha + x_2^\beta$$

यदि $\alpha + \beta > 1$, तो उत्पादन फलन दर्शाता है :

- (1) पैमाने का बढ़ता प्रतिफल।
- (2) पैमाने का स्थिर प्रतिफल।
- (3) पैमाने का घटता प्रतिफल।
- (4) इस सूचना के आधार पर निर्धारित नहीं किया जा सकता।

Options:-

• 1, Option ID :- 1077,

• 2, Option ID :- 1078,

• 3, Option ID :- 1079,

• 4, Option ID :- 1080,

Answer Given:- 1, Option ID : -1077

Question ID:- 271

In a rectangular hyperbola demand curve, the price elasticity of demand will be :

- (1) perfectly elastic
- (2) perfectly inelastic
- (3) unitary elastic
- (4) inelastic

एक रेक्टैंगुलर हायपरबोला माँग वक्र में, माँग की कीमत लोच होगी :

- (1) पूर्णतः लोचदार
- (2) पूर्णतः बेलोचदार
- (3) इकाई लोचदार
- (4) बेलोचदार

Options:-

• 1, Option ID :- 1081,

• 2, Option ID :- 1082,

• 3, Option ID :- 1083,

• 4, Option ID :- 1084,

Answer Given:- 3, Option ID : -1083

Question ID:- 272

Correct formula of Cross elasticity of demand is :

(1) $\frac{\Delta Q_x}{\Delta P_x} \times \frac{P_y}{Q_x}$

(2) $\frac{\Delta Q_x}{\Delta P_y} \times \frac{P_y}{Q_x}$

(3) $\frac{\Delta Q_x}{\Delta P_y} \times \frac{Q_x}{P_y}$

(4) $\frac{\Delta Q_x}{\Delta P_x} \times \frac{Q_x}{P_y}$

माँग की तिरछी लोच का सही सूत्र है :

$$(1) \frac{\Delta Q_x}{\Delta P_x} \times \frac{P_y}{Q_x}$$

$$(2) \frac{\Delta Q_x}{\Delta P_y} \times \frac{P_y}{Q_x}$$

$$(3) \frac{\Delta Q_x}{\Delta P_y} \times \frac{Q_x}{P_y}$$

$$(4) \frac{\Delta Q_x}{\Delta P_x} \times \frac{Q_x}{P_y}$$

Options:-

• 1, Option ID :- 1085,

• 2, Option ID :- 1086,

• 3, Option ID :- 1087,

• 4, Option ID :- 1088,

Answer Given:- 2, Option ID : -1086

Question ID:- 273

Which of the following is not correct ?

$$(1) P_x X + P_y Y = M$$

$$(2) MRS_{xy} = \frac{M.P_y}{P_x}$$

$$(3) MRS_{xy} = -\frac{P_x}{P_y}$$

$$(4) Y = \frac{M}{P_y} - \frac{P_x}{P_y} X$$

निम्नलिखित में से कौन-सा सही नहीं है ?

$$(1) P_x X + P_y Y = M$$

$$(2) MRS_{xy} = \frac{M.P_y}{P_x}$$

$$(3) MRS_{xy} = -\frac{P_x}{P_y}$$

$$(4) Y = \frac{M}{P_y} - \frac{P_x}{P_y} X$$

Options:-

• 1, Option ID :- 1089,

pgtprime.com

pgtprime.com

- 2, Option ID :- 1090,
 - 3, Option ID :- 1091,
 - 4, Option ID :- 1092,
- Answer Given:- 2, Option ID : -1090**

Question ID:- 274

Which of the following is/are **correct** regarding cardinal utility analysis ?

- (A) The marginal utility diminishes with increase in consumption of a commodity.
 - (B) Marginal utility can not be negative
- (1) Only (A) is correct
 - (2) Only (B) is correct
 - (3) Both (A) and (B) are correct
 - (4) Both (A) and (B) are incorrect

गणनावाचक उपयोगिता विश्लेषण के सम्बन्ध में निम्नलिखित में से कौन-सा **सही** है ?

- (A) एक वस्तु के उपयोग में वृद्धि करने के साथ-साथ उससे मिलने वाली सीमान्त उपयोगिता घटती है।
- (B) सीमान्त उपयोगिता ऋणात्मक नहीं हो सकती।

नीचे दिए गए कूट से सही उत्तर को चुनिए :

- (1) केवल (A) सही है।
- (2) केवल (B) सही है।
- (3) (A) एवं (B) दोनों सही हैं।
- (4) (A) एवं (B) दोनों गलत हैं।

Options:-

- 1, Option ID :- 1093,
 - 2, Option ID :- 1094,
 - 3, Option ID :- 1095,
 - 4, Option ID :- 1096,
- Answer Given:- 1, Option ID : -1093**

Question ID:- 275

Which of the following is **not** correct ?

- (1) The long run average cost curve is U shaped.
- (2) The downward sloping part of long run average cost curve corresponds increasing returns to scale.
- (3) The upward sloping part of long run average cost curve corresponds decreasing returns to scale.
- (4) Long run average cost curve cuts the long run marginal cost curve at its minimum point.

निम्नलिखित में से कौन-सा सही नहीं है ?

- (1) दीर्घकालीन औसत लागत वक्र U आकार का होता है।
- (2) दीर्घकालीन औसत लागत वक्र का नीचे की ओर गिरता हुआ भाग पैमाने के बढ़ते प्रतिफल को दर्शाता है।
- (3) दीर्घकालीन औसत लागत वक्र का ऊपर की ओर बढ़ता हुआ भाग पैमाने का घटता प्रतिफल को दर्शाता है।
- (4) दीर्घकालीन औसत लागत वक्र दीर्घकालीन सीमान्त लागत वक्र को उसके न्यूनतम बिन्दु पर काटता है।

Options:-

• 1, Option ID :- 1097,

• 2, Option ID :- 1098,

• 3, Option ID :- 1099,

• 4, Option ID :- 1100,

Answer Given:- 4, Option ID : -1100

Question ID:- 276

In case of Perfect Competition, which one is **not** correct ?

- (1) Marginal revenue is equal to the price.
- (2) Average revenue is higher than the price.
- (3) Average revenue is equal to the price.
- (4) At equilibrium, Market demand is equal to Market supply.

पूर्ण प्रतियोगिता के संदर्भ में, कौन-सा सही नहीं है ?

- (1) सीमान्त आगम कीमत के समान होता है।
- (2) औसत आगम कीमत से अधिक होता है।
- (3) औसत आगम कीमत के समान होता है।
- (4) संतुलन अवस्था में, बाजार माँग बाजार पूर्ति के समान होता है।

Options:-

• 1, Option ID :- 1101,

• 2, Option ID :- 1102,

• 3, Option ID :- 1103,

• 4, Option ID :- 1104,

Answer Given:- 2, Option ID : -1102

Question ID:- 277

A binding floor price leads to :

- (1) Excess demand
- (2) Excess supply
- (3) Shortage of demand
- (4) Shortage of supply

एक प्रभावी न्यूनतम कीमत के कारण :

- (1) माँग आधिक्य होगा।
- (2) पूर्ति आधिक्य होगा।
- (3) माँग की कमी होगी।
- (4) पूर्ति की कमी होगी।

Options:-

• 1, Option ID :- 1105,

• 2, Option ID :- 1106,

• 3, Option ID :- 1107,

• 4, Option ID :- 1108,

Answer Given:- 3, Option ID : -1107

Question ID:- 278

If Price Ceiling is binding in wheat market, it will lead to a situation of :

- (1) Shortage of demand
- (2) Shortage of supply
- (3) Excess demand
- (4) Excess supply

यदि गेहूँ के बाजार में अधिकतम कीमत प्रभावी हो तो :

- (1) माँग में कमी होगी।
- (2) पूर्ति में कमी होगी।
- (3) माँग आधिक्य की स्थिति बनेगी।
- (4) पूर्ति आधिक्य की स्थिति बनेगी।

Options:-

• 1, Option ID :- 1109,

• 2, Option ID :- 1110,

• 3, Option ID :- 1111,

• 4, Option ID :- 1112,

Answer Given:- 1, Option ID : -1109

Question ID:- 279

Given the following demand and supply equations :

$$Q_d = 1200 - P$$

$$Q_s = 900 + 2P$$

What will be equilibrium price ?

- (1) 100
- (2) 200
- (3) 300
- (4) 700

दिये गये माँग एवं पूर्ति समीकरण में :

$$Q_d = 1200 - p$$

$$Q_s = 900 + 2P$$

बाजार में संतुलन कीमत क्या होगी ?

- (1) 100
- (2) 200
- (3) 300
- (4) 700

Options:-

• 1, Option ID :- 1113,

• 2, Option ID :- 1114,

• 3, Option ID :- 1115,

• 4, Option ID :- 1116,

Answer Given:- 1, Option ID : -1113

Question ID:- 280

If the total expenditure on a good and its price move in opposite direction, the price elasticity will be :

- (1) Equal to 1
- (2) More than 1
- (3) Less than 1
- (4) Zero

यदि एक वस्तु पर कुल व्यय एवं उस वस्तु की कीमत विपरीत दिशा में चले तो कीमत लोच होगी :

- (1) 1 के समान
- (2) 1 से अधिक
- (3) 1 से कम
- (4) शून्य

Options:-

• 1, Option ID :- 1117,

• 2, Option ID :- 1118,

• 3, Option ID :- 1119,

• 4, Option ID :- 1120,

Answer Given:- 2, Option ID : -1118

Question ID:- 281

The shape of unitary elastic demand curve will be :

- (1) Rectangular hyperbola
- (2) Horizontal
- (3) Vertical
- (4) Linear

इकाई लोच माँग वक्र का आकार होगा :

- (1) रेक्टैंगुलर हाईपरबोला
- (2) क्षितिज (Horizontal)
- (3) लंबवत् (Vertical)
- (4) रेखीय (Linear)

Options:-

▪ 1, Option ID :- 1121,

▪ 2, Option ID :- 1122,

▪ 3, Option ID :- 1123,

▪ 4, Option ID :- 1124,

Answer Given:- 1, Option ID : -1121

Question ID:- 282

Which of the following is true in case of Giffen goods ?

- (1) Income effect = Substitution effect
- (2) Substitution effect > Income effect
- (3) Income effect > Substitution effect
- (4) Income and substitution effect work in same direction.

गिफन वस्तु के संबंध में निम्नलिखित में से कौन-सा सही है ?

- (1) आय प्रभाव = प्रतिस्थापन प्रभाव
- (2) प्रतिस्थापन प्रभाव > आय प्रभाव
- (3) आय प्रभाव > प्रतिस्थापन प्रभाव
- (4) आय एवं प्रतिस्थापन प्रभाव एक ही दिशा में चलते हैं।

Options:-

▪ 1, Option ID :- 1125,

▪ 2, Option ID :- 1126,

▪ 3, Option ID :- 1127,

▪ 4, Option ID :- 1128,

Answer Given:- 2, Option ID : -1126

Question ID:- 283

The demand for a good and the price of its complementary goods will be _____ related.

- (1) Positively
- (2) Negatively
- (3) Will have no relation
- (4) Positively and proportionally

एक वस्तु की माँग एवं इसके पूरक वस्तु की कीमत संबंधित है :

- (1) धनात्मक रूप से।
- (2) ऋणात्मक रूप से।
- (3) इनमें कोई संबंध नहीं है।
- (4) धनात्मक एवं अनुपातिक रूप से।

Options:-

• 1, Option ID :- 1129,

• 2, Option ID :- 1130,

• 3, Option ID :- 1131,

• 4, Option ID :- 1132,

Answer Given:- 2, Option ID : -1130

Question ID:- 284

Suppose X and Y are substitute goods and if Price of Y increases, the demand curve of X will :

- (1) Shift rightward
- (2) Shift leftward
- (3) Remain same
- (4) Indeterminate

माना कि X एवं Y दोनों स्थानापन्न वस्तुएँ हैं और यदि Y की कीमत बढ़ती है तो X वस्तु के माँग वक्र में :

- (1) दाएँ की ओर खिसकाव होगा।
- (2) बाएँ की ओर खिसकाव होगा।
- (3) कोई बदलाव नहीं होगा।
- (4) अनिर्धारणीय।

Options:-

• 1, Option ID :- 1133,

• 2, Option ID :- 1134,

• 3, Option ID :- 1135,

• 4, Option ID :- 1136,

Answer Given:- 1, Option ID : -1133

Question ID:- 285

The demand functions of two consumers A and B are given as :

$$d_A = 10 - P$$

$$d_B = 15 - P$$

If the price is more than 15, the quantity demanded by A and B respectively are :

- (1) 0 and 1
- (2) 1 and 0
- (3) 5 and 0
- (4) 0 and 0

दो उपभोक्ता A एवं B के माँग फलन इस प्रकार दिये गये हैं :

$$d_A = 10 - P$$

$$d_B = 15 - P$$

यदि कीमत 15 से अधिक है, तो A एवं B द्वारा क्रमशः माँगी गयी मात्रा होगी :

- (1) 0 एवं 1
- (2) 1 एवं 0
- (3) 5 एवं 0
- (4) 0 एवं 0

Options:-

• 1, Option ID :- 1137,

• 2, Option ID :- 1138,

• 3, Option ID :- 1139,

• 4, Option ID :- 1140,

Answer Given:- 4, Option ID : -1140

Question ID:- 286

Which of the following is **not** correct in case of Perfect Competition ?

- (1) Large Market power
- (2) Homogenous product
- (3) Perfect information
- (4) Free entry and exit

पूर्ण प्रतियोगिता के संबंध में निम्नलिखित में से कौन-सा सही नहीं है ?

- (1) अधिक बाजार शक्ति
- (2) समरूप वस्तु
- (3) पूर्ण: जानकारी
- (4) मुक्त आवागमन

Options:-

• 1, Option ID :- 1141,

• 2, Option ID :- 1142,

• 3, Option ID :- 1143,

• 4, Option ID :- 1144,

Answer Given:- 1, Option ID : -1141

Question ID:- 287

Which of the following Conditions is/are **true** for a profit maximizing perfectly competitive firm, when profit is positive ?

- (A) $MR = MC$
 - (B) MC curve is downward sloped at the profit maximizing level of output.
 - (C) Price is greater than AVC in the short run.
- (1) Only (A)
(2) Only (A) and (B)
(3) Only (A) and (C)
(4) All (A), (B) and (C)

जब लाभ धनात्मक हो, तो निम्नलिखित में से कौन-सी अवस्था एक अधिकतम लाभ प्राप्ति उद्देश्य वाली, पूर्ण प्रतियोगी फर्म के लिए सही है ?

- (A) $MR = MC$
 - (B) अधिकतम लाभ के उत्पादन स्तर बिन्दु पर MC वक्र नीचे की ओर गिरता हुआ होगा।
 - (C) अल्पकाल में कीमत AVC से अधिक होता है।
- (1) केवल (A)
(2) केवल (A) एवं (B)
(3) केवल (A) एवं (C)
(4) सभी (A), (B) एवं (C)

Options:-

• 1, Option ID :- 1145,

• 2, Option ID :- 1146,

• 3, Option ID :- 1147,

• 4, Option ID :- 1148,

Answer Given:- 3, Option ID : -1147

Question ID:- 288

Which of the following reason is/are responsible for shift the supply curve of a firm towards left ?

- (A) Technological Progress.
 - (B) Increase in input Prices.
 - (C) Imposition of a unit tax.
- (1) Only (A)
(2) Only (A) and (B)
(3) Only (B) and (C)
(4) Only (A) and (C)

एक फर्म की पूर्ति वक्र को बाँए की ओर खिसकाने वाले उत्तरदायी कारण कौन-से हैं ?

- (A) तकनीकी प्रगति
- (B) आगत कीमत में वृद्धि
- (C) एक इकाई कर का लगाना

- (1) केवल (A)
- (2) केवल (A) एवं (B)
- (3) केवल (B) एवं (C)
- (4) केवल (A) एवं (C)

Options:-

▪ 1, Option ID :- 1149,

▪ 2, Option ID :- 1150,

▪ 3, Option ID :- 1151,

▪ 4, Option ID :- 1152,

Answer Given:- 3, Option ID : -1151

Question ID:- 289

In Perfect Competition, the demand curve faced by a firm is :

- (1) Perfectly elastic
- (2) Perfectly inelastic
- (3) Unitary elastic
- (4) Inelastic

पूर्ण प्रतियोगिता में, एक फर्म का माँग वक्र होगा :

- (1) पूर्णतः लोचदार
- (2) पूर्णतः बेलोचदार
- (3) इकाई लोचदार
- (4) बेलोचदार

Options:-

▪ 1, Option ID :- 1153,

▪ 2, Option ID :- 1154,

▪ 3, Option ID :- 1155,

▪ 4, Option ID :- 1156,

Answer Given:- 1, Option ID : -1153

Question ID:- 290

Given the supply curve, if demand curve shifts rightward ; the equilibrium quantity and equilibrium price respectively will :

- (1) increase and decrease
- (2) decrease and increase
- (3) decrease and decrease
- (4) increase and increase

पूर्ति वक्र स्थिर रहने पर, यदि माँग वक्र दाएँ की ओर खिसकता है तो संतुलन मात्रा एवं संतुलन कीमत क्रमशः :

- (1) बढ़ेगा एवं घटेगी।
- (2) घटेगा एवं बढ़ेगी।
- (3) घटेगा एवं घटेगी।
- (4) बढ़ेगा एवं बढ़ेगी।

Options:-

▪ 1, Option ID :- 1157,

▪ 2, Option ID :- 1158,

▪ 3, Option ID :- 1159,

▪ 4, Option ID :- 1160,

Answer Given:- 4, Option ID : -1160

Question ID:- 291

In a Perfectly Competitive Market, each firm employs labour upto the point where Marginal revenue product of labour is :

- (1) equal to the price of good produced by the firm
- (2) equal to wage rate
- (3) less than the wage rate
- (4) both 1 and 2

एक पूर्ण प्रतियोगिता बाजार में, प्रत्येक फ़र्म उस बिन्दु तक श्रम को लगायेगी जहाँ श्रम का सीमान्त आगम उत्पाद :

- (1) फ़र्म द्वारा उत्पादित वस्तु की कीमत के समान होगा।
- (2) मजदूरी दर के समान होगा।
- (3) मजदूरी दर से कम होगा।
- (4) 1 एवं 2 दोनों।

Options:-

▪ 1, Option ID :- 1161,

▪ 2, Option ID :- 1162,

▪ 3, Option ID :- 1163,

▪ 4, Option ID :- 1164,

Answer Given:- 1, Option ID : -1161

Question ID:- 292

If 25 percent increase in price of a good leads to 15 percent decrease in its quantity demand then the price elasticity of demand will be :

- (1) Less than 1
- (2) Equal to 1
- (3) More than 1
- (4) Equal to ∞

यदि वस्तु की कीमत में 25 प्रतिशत वृद्धि होने पर उसकी माँगी गई मात्रा में 15 प्रतिशत की कमी होती है तो माँग की कीमत लोच कितनी होगी ?

- (1) इकाई से कम
- (2) इकाई के समान
- (3) इकाई से अधिक
- (4) अनन्त के समान

Options:-

- 1, Option ID :- 1165,
- 2, Option ID :- 1166,
- 3, Option ID :- 1167,
- 4, Option ID :- 1168,

Answer Given:- 1, Option ID : -1165

Question ID:- 293

When AR Curve is downward slopping, MR curve will be ?

- (1) Steeper than the AR Curve
- (2) Flatter than the AR Curve
- (3) Parallel to the AR Curve
- (4) Both 1 and 3.

जब औसत (AR) आगम वक्र ऊपर से नीचे की ओर होगा तो सीमान्त आगम (MR) वक्र :

- (1) औसत आगम (AR) वक्र से अधिक झुका हुआ होगा।
- (2) औसत आगम (AR) वक्र से चपटा होगा।
- (3) औसत आगम वक्र के समानान्तर होगा।
- (4) 1 और 3 दोनों।

Options:-

- 1, Option ID :- 1169,
- 2, Option ID :- 1170,
- 3, Option ID :- 1171,
- 4, Option ID :- 1172,

Answer Given:- 1, Option ID : -1169

Question ID:- 294

In a Perfectly Competitive Market, the Total Revenue increases at :

- (1) Increasing rate
- (2) Decreasing rate
- (3) Constant rate
- (4) Does not increase

एक पूर्ण प्रतियोगिता बाजार में कुल आगम बढ़ता है :

- (1) बढ़ते हुए दर से।
- (2) घटते हुए दर से।
- (3) स्थिर दर से।
- (4) बढ़ता नहीं है।

Options:-

• 1, Option ID :- 1173,

• 2, Option ID :- 1174,

• 3, Option ID :- 1175,

• 4, Option ID :- 1176,

Answer Given:- 3, Option ID : -1175

Question ID:- 295

Suppose market price of a commodity increases from Rs. 5 to Rs. 20. As a result quantity supplied by a firm increases by 15 units. The price elasticity of supply is 0.5. What is the initial output of this firm ?

- (1) 30
- (2) 15
- (3) 10
- (4) 5

माना कि एक वस्तु की बाजार कीमत 5 रुपये से बढ़कर 20 रुपये हो जाती है। परिणामस्वरूप एक फर्म द्वारा उस वस्तु की पूर्ति की मात्रा में 15 इकाई की वृद्धि हो जाती है। पूर्ति की कीमत लोच 0.5 है। फर्म का प्रारंभिक उत्पादन की मात्रा कितनी है ?

- (1) 30
- (2) 15
- (3) 10
- (4) 5

Options:-

• 1, Option ID :- 1177,

• 2, Option ID :- 1178,

• 3, Option ID :- 1179,

• 4, Option ID :- 1180,

Answer Given:- 3, Option ID : -1179

Question ID:- 296

In the short run, shut down point of a firm is when ?

- (1) $P \geq AVC$
- (2) $P \leq AVC$
- (3) $P \geq SMC$
- (4) $P = SAC$

अल्पकाल में, एक फर्म का बन्द बिन्दु होता है, जब :

- (1) $P \geq AVC$
- (2) $P \leq AVC$
- (3) $P \geq SMC$
- (4) $P = SAC$

Options:-

• 1, Option ID :- 1181,

• 2, Option ID :- 1182,

• 3, Option ID :- 1183,

• 4, Option ID :- 1184,

Answer Given:- 1, Option ID : -1181

Question ID:- 297

Which of the following is/are correct ?

- (A) A Consumer's preferences, in general, can be shown by an indifference map.
 - (B) A Consumer's preferences, in general, can also be shown by a utility function.
- (1) Only (A)
 - (2) Only (B)
 - (3) Both (A) and (B)
 - (4) Neither (A) nor (B)

निम्नलिखित में से कौन-सा सही है ?

- (A) एक उपभोक्ता की प्राथमिकताएँ, साधारणतः अनाधिमान मानचित्र के द्वारा दर्शाया जा सकता है।
 - (B) एक उपभोक्ता की प्राथमिकताओं को, साधारणतः एक उपयोगिता फलन के द्वारा भी दर्शाया जा सकता है।
- (1) केवल (A)
 - (2) केवल (B)
 - (3) (A) एवं (B) दोनों
 - (4) न (A) और न ही (B)

Options:-

• 1, Option ID :- 1185,

• 2, Option ID :- 1186,

• 3, Option ID :- 1187,

• 4, Option ID :- 1188,

Answer Given:- 3, Option ID : -1187

Question ID:- 298

Budget deficit is :

- (1) the difference between all receipts and all the expenditure
- (2) fiscal deficit minus repayment of loan.
- (3) fiscal deficit minus interest payments
- (4) the difference between revenue receipts and revenue expenditure.

बजट घाटा होता है :

- (1) सभी प्राप्तियों एवं सभी व्यय के बीच का अन्तर
- (2) राजकोषीय घाटा - ऋण का भुगतान
- (3) राजकोषीय घाटा - व्याज भुगतान
- (4) राजस्व प्राप्तियों एवं राजस्व व्यय के बीच का अन्तर

Options:-

▪ 1, Option ID :- 1189,

▪ 2, Option ID :- 1190,

▪ 3, Option ID :- 1191,

▪ 4, Option ID :- 1192,

Answer Given:- 1, Option ID : -1189

Question ID:- 299

The Gini Coefficient is used to measure :

- (1) Inflation rate
- (2) Budget deficits
- (3) Unemployment rate
- (4) Inequality of income

गिनी गुणांक का प्रयोग किसको मापने के लिए किया जाता है ?

- (1) मुद्रास्फीति दर
- (2) बजट घाटा
- (3) बेरोजगारी दर
- (4) आय की असमानता

Options:-

▪ 1, Option ID :- 1193,

▪ 2, Option ID :- 1194,

▪ 3, Option ID :- 1195,

▪ 4, Option ID :- 1196,

Answer Given:- 4, Option ID : -1196

Question ID:- 300

In the situation of Liquidity trap, which is correct ?

- (A) Interest rates are high
 - (B) Monetary policy becomes ineffective
- (1) Only (A)
 - (2) Only (B)
 - (3) Both (A) and (B)
 - (4) Neither (A) nor (B)

तरलता जाल की अवस्था में, कौन-सा सही है ?

- (A) ब्याज दर अत्यधिक होगी।
(B) मौद्रिक नीति अप्रभावी हो जाती है।
- (1) केवल (A)।
(2) केवल (B)।
(3) (A) एवं (B) दोनों।
(4) न (A) और न ही (B)।

Options:-

- 1, Option ID :- 1197,
- 2, Option ID :- 1198,
- 3, Option ID :- 1199,
- 4, Option ID :- 1200,

Answer Given:- 2, Option ID : -1198

Question ID:- 301

Who among the following was the Chairman of the National Commission on Farmers, constituted by the UPA Government in November 2004 ?

- (1) Abhijit Sen
(2) Jagdish Bhagwati
(3) Ashok Mathur
(4) M. S. Swaminathan

नवम्बर 2004 में यू.पी.ए. सरकार द्वारा गठित कृषकों पर राष्ट्रीय कमीशन का अध्यक्ष निम्नलिखित में से कौन थे ?

- (1) अभिजीत सेन
(2) जगदीश भगवती
(3) अशोक माथुर
(4) एम.एस. स्वामीनाथन

Options:-

- 1, Option ID :- 1201,
- 2, Option ID :- 1202,
- 3, Option ID :- 1203,
- 4, Option ID :- 1204,

Answer Given:- 1, Option ID : -1201

Question ID:- 302

Options:-

- 1, Option ID :- 1205,
- 2, Option ID :- 1206,

- 3, Option ID :- 1207,
 - 4, Option ID :- 1208,
- Answer Given:- 1, Option ID : -1205**

Question ID:- 303

Options:-

- 1, Option ID :- 1209,
 - 2, Option ID :- 1210,
 - 3, Option ID :- 1211,
 - 4, Option ID :- 1212,
- Answer Given:- 4, Option ID : -1212**

Question ID:- 304

निम्नलिखित में, से कौन-सा भारत सरकार को राजकोषीय संघटन में सहायता नहीं कर पायेगा ?

- (1) सहायिकी में कमी करना
- (2) और अधिक ऋण लेना
- (3) कर में वृद्धि करना
- (4) व्यय में कुशलता लाना

Options:-

- 1, Option ID :- 1213,
 - 2, Option ID :- 1214,
 - 3, Option ID :- 1215,
 - 4, Option ID :- 1216,
- Answer Given:- 2, Option ID : -1214**

Question ID:- 305

Which of the following is **not** a reason for deflation ?

- (1) Reduction in money supply
- (2) Reduction in investment spending
- (3) Reduction in credit availability
- (4) Reduction in policy rates by RBI

निम्नलिखित में से कौन-सा अवस्फीति का कारण नहीं है ?

- (1) मुद्रा पूर्ति में कमी
- (2) निवेश व्यय में कमी
- (3) साख की उपलब्धता में कमी
- (4) आर.बी.आई. (RBI) द्वारा नीति दरों में कमी

Options:-

- 1, Option ID :- 1217,
- 2, Option ID :- 1218,
- 3, Option ID :- 1219,
- 4, Option ID :- 1220,

Answer Given:- 4, Option ID : -1220

Question ID:- 306

Phillips curve shows the relationship between :

- (1) Rate of unemployment and rate of interest
- (2) Rate of unemployment and rate of GDP growth
- (3) Rate of unemployment and rate of poverty
- (4) Rate of unemployment and rate of inflation

फिलिप्स वक्र, संबंध दर्शाता है :

- (1) बेरोजगारी की दर एवं ब्याज दर के बीच।
- (2) बेरोजगारी की दर एवं जी.डी.पी. वृद्धि-दर के बीच।
- (3) बेरोजगारी की दर एवं गरीबी दर के बीच।
- (4) बेरोजगारी की दर एवं मुद्रास्फिति दर के बीच।

Options:-

- 1, Option ID :- 1221,
- 2, Option ID :- 1222,
- 3, Option ID :- 1223,
- 4, Option ID :- 1224,

Answer Given:- 4, Option ID : -1224

Question ID:- 307

Which of the following is/are **not** correct about Banking Ombudsman scheme ?

- (A) This scheme was introduced by RBI (Under Section 35A) in 1995
 - (B) This scheme is for redressal of Customers Complaints against banks
 - (C) Under this scheme banks do not have the option to appeal before the appellate authority
- (1) Only (A)
 - (2) Only (B)
 - (3) Only (C)
 - (4) Only (A) and (C)

बैंकिंग लोकपाल योजना के संबंध में, निम्न में से कौन-सा/से सही नहीं है ?

- (A) यह योजना आर.बी.आई. द्वारा (अनुच्छेद-35A के तहत) वर्ष 1995 में लागू किया गया।
(B) यह योजना बैंकों के खिलाफ उपभोक्ता के शिकायतों के निवारण के लिए है।
(C) इस योजना के अन्तर्गत बैंकों के पास अपीलियेट ऑथोरिटी के समक्ष अपील करने का विकल्प उपलब्ध नहीं होता है।

- (1) केवल (A)
(2) केवल (B)
(3) केवल (C)
(4) केवल (A) एवं (C)

Options:-

• 1, Option ID :- 1225,

• 2, Option ID :- 1226,

• 3, Option ID :- 1227,

• 4, Option ID :- 1228,

Answer Given:- 4, Option ID : -1228

Question ID:- 308

Which of the following is not correctly matched ?

List I (Banks)	List II (Headquarter)
(1) Corporation Bank	Mangalore
(2) Bank of India	Mumbai
(3) Punjab National Bank	Patiala
(4) Allahabad Bank	Kolkata

निम्नलिखित में से कौन-सा सही मिलान नहीं है ?

सूची-I (बैंक)	सूची-II (मुख्यालय)
(1) कॉर्पोरेशन बैंक	मैंगलोर
(2) बैंक ऑफ इंडिया	मुम्बई
(3) पंजाब नेशनल बैंक	पटियाला
(4) इलाहाबाद बैंक	कोलकाता

Options:-

• 1, Option ID :- 1229,

• 2, Option ID :- 1230,

• 3, Option ID :- 1231,

• 4, Option ID :- 1232,

Answer Given:- 4, Option ID : -1232

Question ID:- 309

M. S. Verma Committee was related to :

- (1) Rural development bank
- (2) Restructuring of rural banks
- (3) Inflation targeting
- (4) Monetary Policy Committee

एम.एस. वर्मा समिति किससे संबंधित था ?

- (1) ग्रामीण विकास बैंक
- (2) ग्रामीण बैंकों का पुनर्गठन
- (3) मुद्रास्फीति लक्ष्य
- (4) मौद्रिक नीति समिति

Options:-

• 1, Option ID :- 1233,

• 2, Option ID :- 1234,

• 3, Option ID :- 1235,

• 4, Option ID :- 1236,

Answer Given:- 2, Option ID : -1234

Question ID:- 310

Which of the following pair is **not** correctly matched ?

- (1) RBI - Lender of last resort
- (2) EXIM Bank - Financing export and import
- (3) ICICI - Public Sector bank
- (4) NABARD - Rural development

निम्नलिखित में से कौन-से जोड़े का मिलान सही नहीं है ?

- (1) आर.बी.आई. - अंतिम ऋणदाता
- (2) EXIM बैंक - आयात एवं निर्यात का वित्त
- (3) ICICI - सार्वजनिक क्षेत्र का बैंक
- (4) NABARD - ग्रामीण विकास

Options:-

• 1, Option ID :- 1237,

• 2, Option ID :- 1238,

• 3, Option ID :- 1239,

• 4, Option ID :- 1240,

Answer Given:- 3, Option ID : -1239

Question ID:- 311

Which of the following statement is/are correct ?

- (A) RBI changes the repo rate every month to control the money supply in the economy.
(B) Any change in the repo rate by RBI is a signal to banks to revise their rate of interest on deposits and loans.
- (1) Only (A)
(2) Only (B)
(3) Both (A) and (B)
(4) Neither (A) nor (B)

निम्नलिखित में से कौन-सा/से सही है/हैं ?

- (A) अर्थव्यवस्था में मुद्रा पूर्ति के नियंत्रण के लिए भारतीय रिजर्व बैंक प्रति माह रेपो दर में बदलाव करती है।
(B) भारतीय रिजर्व बैंक द्वारा रेपो दर में बदलाव बैंकों के लिए जमा एवं ऋण पर ब्याज की दर निर्धारण हेतु एक इशारा है।
- (1) केवल (A)
(2) केवल (B)
(3) (A) एवं (B) दोनों
(4) न (A) और न ही (B)

Options:-

- 1, Option ID :- 1241,
- 2, Option ID :- 1242,
- 3, Option ID :- 1243,
- 4, Option ID :- 1244,

Answer Given:- 2, Option ID : -1242

Question ID:- 312

Effect of expansionary Monetary Policy by RBI is :

- (1) It increases the cost of borrowing
(2) It decreases the Money supply
(3) It has no effect on rate of interest charged by commercial banks
(4) It increases the money supply

भारतीय रिजर्व बैंक द्वारा विस्तारवादी मौद्रिक नीति का प्रभाव होगा :

- (1) उधार लेने की लागत में वृद्धि
(2) मुद्रा पूर्ति में कमी
(3) व्यवसायिक बैंकों द्वारा लेने वाली ब्याज दर पर इसका कोई प्रभाव नहीं होगा
(4) मुद्रा पूर्ति में वृद्धि

Options:-

- 1, Option ID :- 1245,
- 2, Option ID :- 1246,
- 3, Option ID :- 1247,

• 4, Option ID :- 1248,
Answer Given:- 4, Option ID : -1248

Question ID:- 313

Choose the **correct** statement.

- (A) Banks were nationalised in India in 1969 and 1980.
(B) Nationalisation of Banks did bring financial inclusion
- (1) Only (A) is correct
(2) Only (B) is correct
(3) Both (A) and (B) are correct
(4) Both (A) and (B) are incorrect

सही कथन का चयन करें :

- (A) भारत में 1969 एवं 1980 में बैंकों का राष्ट्रीकरण किया गया।
(B) बैंकों के राष्ट्रीयकरण से वित्तीय समग्रता को बढ़ावा मिला।
- (1) केवल (A) सही है।
(2) केवल (B) सही है।
(3) (A) एवं (B) दोनों सही है।
(4) (A) एवं (B) दोनों गलत है।

Options:-

- 1, Option ID :- 1249,
• 2, Option ID :- 1250,
• 3, Option ID :- 1251,
• 4, Option ID :- 1252,
Answer Given:- 3, Option ID : -1251

Question ID:- 314

Which of the following statement regarding Urjit Patel Committee is/are **correct** ?

- (A) This committee was appointed to examine the monetary policy framework of RBI.
(B) The committee suggested to adopt the new CPI as nominal anchor for policy recommendation.
(C) It recommended that RBI Governor should not be the Chairman of the Monetary Policy Committee.
- (1) Only (A) and (B)
(2) Only (B) and (C)
(3) Only (A) and (C)
(4) All (A), (B) and (C)

ऊर्जित पटेल समिति के संबंध में निम्नलिखित में से कौन-सा/से सही है/हैं ?

- (A) इस समिति का गठन भारतीय रिजर्व बैंक के मौद्रिक नीति ढाँचा के परीक्षण करने के लिए किया गया था।
(B) इस समिति ने नये उपभोक्ता कीमत सूचकांक को नीति सिफारिशों हेतु नये नामित मान को अपनाने का सुझाव दिया है।
(C) इस समिति ने सिफारिश की है कि भारतीय रिजर्व बैंक के गवर्नर को मौद्रिक नीति समिति का अध्यक्ष नहीं होना चाहिए।

- (1) केवल (A) एवं (B)
(2) केवल (B) एवं (C)
(3) केवल (A) एवं (C)
(4) (A), (B) एवं (C) सभी

Options:-

▪ 1, Option ID :- 1253,

▪ 2, Option ID :- 1254,

▪ 3, Option ID :- 1255,

▪ 4, Option ID :- 1256,

Answer Given:- 1, Option ID : -1253

Question ID:- 315

Which of the following is **not** correct ?

- (1) Banks do not earn any interest on their CRR deposits with RBI
(2) Open market operations of RBI is nothing but sale and purchase of govt. securities in open market
(3) Commercial banks are regulated by the RBI
(4) RBI has nothing to do with foriegn exchange reserves of the country

निम्नलिखित में से कौन-सा सही नहीं है ?

- (1) बैंक अपने RBI के पास CRR जमा से कोई भी ब्याज नहीं कमाते हैं।
(2) RBI की खुले बाजार की प्रक्रियाएँ और कुछ नहीं बल्कि खुले बाजार में सरकारी प्रतिभूतियों का क्रय एवं विक्रय है।
(3) व्यावसायिक बैंकों को RBI द्वारा नियंत्रित किये जाते हैं।
(4) देश के विदेशी मुद्रा भण्डार से RBI का कोई लेना-देना नहीं है।

Options:-

▪ 1, Option ID :- 1257,

▪ 2, Option ID :- 1258,

▪ 3, Option ID :- 1259,

▪ 4, Option ID :- 1260,

Answer Given:- 4, Option ID : -1260

Question ID:- 316

Which of the following is/are **correct** about GDP deflator ?

- (A) It is a comprehensive measure of inflation.
(B) It is derived as a ratio of GDP at current price to GDP at constant price.
- (1) Only (A)
(2) Only (B)
(3) Both (A) and (B)
(4) Neither (A) nor (B)

जीडीपी अवस्फीतक के संबंध में निम्न में से कौन-सा/से **सही** है ?

- (A) यह मुद्रास्फीति का एक समग्र मापक है।
(B) इसे चालू कीमतों में जीडीपी तथा स्थिर कीमतों में जीडीपी के अनुपात के रूप में निकाला जाता है।
- (1) केवल (A)
(2) केवल (B)
(3) (A) एवं (B) दोनों
(4) न (A) और न ही (B)

Options:-

- 1, Option ID :- 1261,
- 2, Option ID :- 1262,
- 3, Option ID :- 1263,
- 4, Option ID :- 1264,

Answer Given:- 3, Option ID : -1263

Question ID:- 317

Which of the following is/are **correct** about National Rural Livelihood Mission (NRLM) ?

- (A) It is a poverty alleviation project implemented by Ministry of Rural Development, Govt. of India.
(B) This scheme works through organising rural poor into Self- Help Groups(SHG) and promote self employment.
- (1) Only (A)
(2) Both (A) and (B)
(3) Only (B)
(4) Neither (A) nor (B)

राष्ट्रीय ग्रामीण आजीविका मिशन (NRLM) के संबंध से निम्न में से कौन-सा/से सही हैं/हैं :

- (A) यह ग्रामीण विकास मंत्रालय, भारत सरकार द्वारा क्रियान्वित एक गरीबी उन्मुलन परियोजना है।
(B) यह योजना ग्रामीण गरीबों को स्वयम्-सहायता समूह (SHGs) के रूप में संगठित करती है एवं स्वरोजगार को बढ़ावा देती है।
- (1) केवल (A)
(2) (A) एवं (B) दोनों
(3) केवल (B)
(4) न (A) और न ही (B)

Options:-

• 1, Option ID :- 1265,

• 2, Option ID :- 1266,

• 3, Option ID :- 1267,

• 4, Option ID :- 1268,

Answer Given:- 2, Option ID : -1266

Question ID:- 318

Which of the following statement is/are **correct** ?

- (A) The FERA of 1973 in India was replaced by FEMA w.e.f. June 2000 by Atal Bihari Vajpayee Government.
(B) This new act deals with foreign exchange civil offences.
- (1) Only (A)
(2) Only (B)
(3) Both (A) and (B)
(4) Neither (A) nor (B)

निम्नलिखित में से कौन-सा कथन **सही** है ?

- (A) अटल बिहारी वाजपेयी सरकार के द्वारा सन 1973 के FERA कानून को जून 2000 से FEMA कानून में बदल दिया गया।
(B) यह नया कानून विदेशी विनिमय सिविल जुर्म से संबंधित है।
- (1) केवल (A)
(2) केवल (B)
(3) (A) एवं (B) दोनों
(4) न (A) और न ही (B)

Options:-

• 1, Option ID :- 1269,

• 2, Option ID :- 1270,

• 3, Option ID :- 1271,

• 4, Option ID :- 1272,

Answer Given:- 1, Option ID : -1269

Question ID:- 319

The Credit Linked Capital Subsidy Scheme is related to which sector :

- (1) MSME
- (2) Heavy Industries
- (3) Airport (Civil Aviation)
- (4) Agriculture

साख आधारित पूँजी सहायिकी योजना किस क्षेत्र से संबंधित है ?

- (1) एम.एस.एम.ई.
- (2) भारी उद्योग
- (3) हवाई अड्डा (नागरिक उड्डयन)
- (4) कृषि

Options:-

▪ 1, Option ID :- 1273,

▪ 2, Option ID :- 1274,

▪ 3, Option ID :- 1275,

▪ 4, Option ID :- 1276,

Answer Given:- 1, Option ID : -1273

Question ID:- 320

The Theme of the 12th five year plan was :

- (1) Inclusive growth
- (2) Faster and reliable growth
- (3) Reliable and sustainable growth
- (4) Faster, sustainable and more inclusive growth.

बारहवीं पंचवर्षीय योजना का थीम क्या था ?

- (1) समायोजित विकास
- (2) तीव्र एवं विश्वसनीय विकास
- (3) विश्वसनीय एवं सतत् विकास
- (4) तीव्र, सतत् एवं अधिक समायोजित विकास

Options:-

▪ 1, Option ID :- 1277,

▪ 2, Option ID :- 1278,

▪ 3, Option ID :- 1279,

▪ 4, Option ID :- 1280,

Answer Given:- 4, Option ID : -1280

Question ID:- 321

True expression of National Income is :

- (1) NNP at market price + Depreciation
- (2) NNP at factor cost + Net indirect taxes
- (3) NNP at market price – Net indirect taxes
- (4) NNP at factor cost + Indirect tax + Depreciation

राष्ट्रीय आय का उचित प्रदर्शन है :

- (1) NNP बाजार मूल्य + अवमूल्यन
- (2) NNP साधन लागत + शुद्ध अप्रत्यक्ष कर
- (3) NNP बाजार मूल्य – शुद्ध अप्रत्यक्ष कर
- (4) NNP साधन लागत + शुद्ध अप्रत्यक्ष कर + अवमूल्यन

Options:-

• 1, Option ID :- 1281,

• 2, Option ID :- 1282,

• 3, Option ID :- 1283,

• 4, Option ID :- 1284,

Answer Given:- 4, Option ID : -1284

Question ID:- 322

Which of the following is **not** correct ?

- (1) $GDP = GNP - \text{Net factor income from abroad.}$
- (2) $GNP = NNP + \text{Depreciation}$
- (3) $NDP = GNP - \text{Depreciation} - \text{Net factor income from abroad}$
- (4) $GDP = NNP + \text{Depreciation} + \text{Net factor income from abroad}$

निम्नलिखित में से कौन-सा सही नहीं है ?

- (1) जी.डी.पी. = जी.एन.पी. – विदेशों से प्राप्त शुद्ध साधन आय
- (2) जी.एन.पी. = एन.एन.पी. + अवमूल्यन
- (3) एन.डी.पी. = जी.एन.पी. – अवमूल्यन – विदेशों से प्राप्त शुद्ध साधन आय
- (4) जी.डी.पी. = एन.एन.पी. + अवमूल्यन + विदेशों से प्राप्त शुद्ध साधन आय

Options:-

• 1, Option ID :- 1285,

• 2, Option ID :- 1286,

• 3, Option ID :- 1287,

• 4, Option ID :- 1288,

Answer Given:- 4, Option ID : -1288

Question ID:- 323

Which of the following is **not** included in revenue receipts of Govt. of India ?

- (1) Interest on loans from state governments.
- (2) Profits of PSUs
- (3) Fees, Fines and Penalties.
- (4) Borrowings.

निम्नलिखित में से किसे भारत सरकार के राजस्व प्राप्तियों में शामिल नहीं किया जाता है ?

- (1) राज्य सरकारों से प्राप्त ऋण पर ब्याज
- (2) पी.एस.यू. से प्राप्त लाभ
- (3) फीस, जुर्माना एवं पेनल्टी
- (4) ऋण

Options:-

• 1, Option ID :- 1289,

• 2, Option ID :- 1290,

• 3, Option ID :- 1291,

• 4, Option ID :- 1292,

Answer Given:- 4, Option ID : -1292

Question ID:- 324

Which of the following statement is/are **correct** ?

- (A) Service sector has been the driver of high rate of GDP growth in India during post reform period.
 - (B) Service sector is the largest contributor in employment and second largest contributor in GDP in India in last two decades.
- (1) Only (A)
 - (2) Only (B)
 - (3) Both (A) and (B)
 - (4) Neither (A) nor (B)

निम्नलिखित में से कौन-सा/से कथन सही है/हैं ?

- (A) सुधार काल के पश्चात् भारत में उच्च जी.डी.पी. वृद्धि दर में सेवा क्षेत्र अहम रहा है।
 - (B) भारत ने पिछले दो दशकों में सेवा क्षेत्र का रोजगार में सर्वाधिक एवं जी.डी.पी. में दूसरा सबसे ज्यादा योगदान रहा।
- (1) केवल (A)
 - (2) केवल (B)
 - (3) (A) एवं (B) दोनों
 - (4) न (A) और न ही (B)

Options:-

• 1, Option ID :- 1293,

• 2, Option ID :- 1294,

• 3, Option ID :- 1295,

- 4, Option ID :- 1296,
Answer Given:- 1, Option ID : -1293

Question ID:- 325

Rural Infrastructure Development Fund was instituted in :

- (1) RBI
- (2) SIDBI
- (3) ADB
- (4) NABARD

ग्रामीण संस्थागत ढाँचा विकास फण्ड की स्थापना किस संस्था की योजना है ?

- (1) आर.बी.आई. (RBI)
- (2) SIDBI
- (3) ADB
- (4) NABARD

Options:-

- 1, Option ID :- 1297,
- 2, Option ID :- 1298,
- 3, Option ID :- 1299,
- 4, Option ID :- 1300,
Answer Given:- 4, Option ID : -1300

Question ID:- 326

Capital receipts of Government of India do not include :

- (1) Interest receipts on loan
- (2) Borrowings
- (3) Recovery of loan
- (4) Receipts from disinvestment of PSUs.

भारत सरकार की पूँजीगत प्राप्तियों में क्या शामिल नहीं होता है ?

- (1) ऋण पर ब्याज की प्राप्ति
- (2) ऋण (उधार)
- (3) ऋण की रिकवरी
- (4) पी.एस.यू. के विनिवेश से प्राप्तियाँ

Options:-

- 1, Option ID :- 1301,
- 2, Option ID :- 1302,
- 3, Option ID :- 1303,
- 4, Option ID :- 1304,
Answer Given:- 3, Option ID : -1303

Question ID:- 327

If MPC is 0.8 and tax rate is 0.15, what will be the value of tax multiplier ?

- (1) - 5
- (2) - 4
- (3) - 0.65
- (4) - 3

यदि MPC 0.8 है एवं कर की दर 0.15 है तो कर गुणांक का मूल्य क्या होगा ?

- (1) - 5
- (2) - 4
- (3) - 0.65
- (4) - 3

Options:-

• 1, Option ID :- 1305,

• 2, Option ID :- 1306,

• 3, Option ID :- 1307,

• 4, Option ID :- 1308,

Answer Given:- 3, Option ID : -1307

Question ID:- 328

Given the savings function $S = -50 + 0.25Y$, if investment in an economy increases by Rs. 250 crore,

national income will increase by _____.

- (1) Rs. 800 Crore
- (2) Rs. 900 Crore
- (3) Rs. 1000 Crore
- (4) Rs. 1200 Crore

दिये गये बचत फलन $S = -50 + 0.25Y$ में, यदि एक अर्थव्यवस्था में निवेश में 250 करोड़ रुपये की वृद्धि होती है तो राष्ट्रीय आय में कितनी वृद्धि होगी ?

- (1) 800 करोड़ रुपये की
- (2) 900 करोड़ रुपये की
- (3) 1000 करोड़ रुपये की
- (4) 1200 करोड़ रुपये की

Options:-

• 1, Option ID :- 1309,

• 2, Option ID :- 1310,

• 3, Option ID :- 1311,

• 4, Option ID :- 1312,

Answer Given:- 3, Option ID : -1311

Question ID:- 329

Following is the information of Government Budget of a hypothetical economy :

Revenue expenditure = Rs. 1000 Crore

Revenue Receipts = Rs. 700 Crore

Capital expenditure = Rs. 200 crore

Capital Receipts = Rs. 400 crore

Non debt creating Capital Receipts = Rs. 100 crore

What will be the value of fiscal deficit ?

- (1) Rs. 300 Crore
- (2) Rs. 400 Crore
- (3) Rs. 500 Crore
- (4) Rs. 600 Crore

एक काल्पनिक अर्थव्यवस्था के सरकारी बजट के निम्नलिखित आंकड़ें हैं :

राजस्व व्यय = 1000 करोड़ रुपये

राजस्व प्राप्तियाँ = 700 करोड़ रुपये

पूँजीगत व्यय = 200 करोड़ रुपये

पूँजीगत प्राप्तियाँ = 400 करोड़ रुपये

ऋण-रहित पूँजीगत प्राप्तियाँ = 100 करोड़ रुपये

राजकोषीय घाटे का मूल्य क्या होगा ?

- (1) 300 करोड़ रुपये
- (2) 400 करोड़ रुपये
- (3) 500 करोड़ रुपये
- (4) 600 करोड़ रुपये

Options:-

• 1, Option ID :- 1313,

• 2, Option ID :- 1314,

• 3, Option ID :- 1315,

• 4, Option ID :- 1316,

Answer Given:- 3, Option ID : -1315

Question ID:- 330

Investment demand in an economy depends on :

- (A) Marginal propensity to consume
- (B) Marginal efficiency of capital
- (C) Rate of interest

- (1) Only (A) and (B)
- (2) Only (A) and (C)
- (3) Only (B) and (C)
- (4) All (A), (B) and (C)

एक अर्थव्यवस्था में निवेश माँग किस पर निर्भर करती है ?

- (A) उपभोग की सीमान्त प्रवृत्ति
 - (B) पूँजी की सीमान्त कुशलता
 - (C) ब्याज की दर
- (1) केवल (A) एवं (B)
 - (2) केवल (A) एवं (C)
 - (3) केवल (B) एवं (C)
 - (4) (A), (B) एवं (C) सभी

Options:-

▪ 1, Option ID :- 1317,

▪ 2, Option ID :- 1318,

▪ 3, Option ID :- 1319,

▪ 4, Option ID :- 1320,

Answer Given:- 3, Option ID : -1319

Question ID:- 331

According to Keynes, involuntary unemployment exist due to :

- (A) Deficiency of aggregate demand
 - (B) Deficiency of aggregate supply.
- (1) Only (A)
 - (2) Only (B)
 - (3) Both (A) and (B)
 - (4) Neither (A) nor (B)

किन्स के अनुसार, अनैच्छिक बेरोजगारी किन कारणों से पाई जाती है ?

- (A) समग्र माँग में कमी
 - (B) समग्र पूर्ति में कमी
- (1) केवल (A)
 - (2) केवल (B)
 - (3) (A) एवं (B) दोनों
 - (4) न (A) और न ही (B)

Options:-

▪ 1, Option ID :- 1321,

▪ 2, Option ID :- 1322,

▪ 3, Option ID :- 1323,

▪ 4, Option ID :- 1324,

Answer Given:- 1, Option ID : -1321

Question ID:- 332

Which of the following causes cost-push inflation ?

- (A) Increase in Government expenditure
 - (B) Increase in wages
 - (C) Increase in profit margins.
- (1) Only (A) and (B)
 - (2) Only (B) and (C)
 - (3) Only (A) and (C)
 - (4) Only (C)

निम्न में से कौन लागत-जनित मुद्रास्फीति उत्पन्न करता है ?

- (A) सरकारी व्यय में वृद्धि
 - (B) मजदूरी में वृद्धि
 - (C) लाभ अनुपात में वृद्धि
- (1) केवल (A) एवं (B)
 - (2) केवल (B) एवं (C)
 - (3) केवल (A) एवं (C)
 - (4) केवल (C)

Options:-

- 1, Option ID :- 1325,
- 2, Option ID :- 1326,
- 3, Option ID :- 1327,
- 4, Option ID :- 1328,

Answer Given:- 4, Option ID : -1328

Question ID:- 333

A situation when a high rate of inflation occurs simultaneously with a high rate of unemployment is known as :

- (1) Stagnation
- (2) Recession
- (3) Inflation
- (4) Stagflation

एक ऐसी अवस्था जब मुद्रास्फीति की ऊँची दर एवं बेरोजगारी की अधिक दर एक साथ व्याप्त होती है तो उसे कहा जाता है :

- (1) गतिहीनता
- (2) मंदी
- (3) मुद्रास्फीति
- (4) स्फीति गतिरोध

Options:-

- 1, Option ID :- 1329,

- 2, Option ID :- 1330,
 - 3, Option ID :- 1331,
 - 4, Option ID :- 1332,
- Answer Given:- 4, Option ID : -1332**

Question ID:- 334

Which of the following statement is/are **correct** ?

- (A) An increase in government expenditure raises GNP. Multiplier determines the size of this increase.
 - (B) An increase in taxes increases GNP.
- (1) Only (A)
 - (2) Only (B)
 - (3) Both (A) and (B)
 - (4) Neither (A) nor (B)

निम्नलिखित में से कौन-सा/से कथन सही है/हैं ?

- (A) सरकारी व्यय में वृद्धि जी.एन.पी. को बढ़ाती है। गुणांक इस वृद्धि के आकार को निर्धारित करता है।
 - (B) करों में वृद्धि जी.एन.पी. को बढ़ाती है।
- (1) केवल (A)
 - (2) केवल (B)
 - (3) (A) एवं (B) दोनों
 - (4) न (A) और न ही (B)

Options:-

- 1, Option ID :- 1333,
 - 2, Option ID :- 1334,
 - 3, Option ID :- 1335,
 - 4, Option ID :- 1336,
- Answer Given:- 1, Option ID : -1333**

Question ID:- 335

As per NFHS -5, the infant mortality rate (per 1000 livebirth) in India has declined to :

- (1) 49.2
- (2) 45.5
- (3) 42.7
- (4) 35.2

NFHS-5 के अनुसार, भारत में शिशु मृत्यु दर (प्रति हजार जीवित जन्म) घटकर हो गई है :

- (1) 49.2
- (2) 45.5
- (3) 42.7
- (4) 35.2

Options:-

- 1, Option ID :- 1337,
- 2, Option ID :- 1338,
- 3, Option ID :- 1339,
- 4, Option ID :- 1340,

Answer Given:- 4, Option ID : -1340

Question ID:- 336

Read the following statements and choose the correct option :

- (A) As per NFHS - 5, sex ratio of Haryana has improved from 836 (NFHS -4) to 893 (NFHS -5)
- (B) For Kerala during the same period it has deteriorated from 1047 (NFHS-4) to 951 (NFHS-5)
- (1) Only (A)
 - (2) Only (B)
 - (3) Both (A) and (B)
 - (4) Neither (A) nor (B)

Options:-

- 1, Option ID :- 1341,
- 2, Option ID :- 1342,
- 3, Option ID :- 1343,
- 4, Option ID :- 1344,

Answer Given:- 1, Option ID : -1341

Question ID:- 337

Options:-

- 1, Option ID :- 1345,
- 2, Option ID :- 1346,
- 3, Option ID :- 1347,
- 4, Option ID :- 1348,

Answer Given:- 1, Option ID : -1345

Question ID:- 338

Options:-

- 1, Option ID :- 1349,
- 2, Option ID :- 1350,
- 3, Option ID :- 1351,
- 4, Option ID :- 1352,

Answer Given:- 1, Option ID : -1349

Question ID:- 339

In India, the last official estimation of poverty was done by Rangarajan Committee in 2014 using the data of consumption expenditure survey 2011-12. The poverty was estimated by this committee as :

- (1) 38.2 %
- (2) 32.5 %
- (3) 29.5 %
- (4) 23.7 %

भारत में, अधिकारिक रूप से गरीबी का औपचारिक आंकलन 2014 में, रंगराजन समिति द्वारा 2011-12 के उपभोग व्यय सर्वे के आंकड़ों के उपयोग से किया गया था। इस कमेटी के द्वारा गरीबी का आंकलन कितना किया गया है ?

- (1) 38.2%
- (2) 32.5%
- (3) 29.5%
- (4) 23.7%

Options:-

- 1, Option ID :- 1353,
- 2, Option ID :- 1354,
- 3, Option ID :- 1355,
- 4, Option ID :- 1356,

Answer Given:- 3, Option ID : -1355

Question ID:- 340

In which of following five year plan Actual Growth Performance of the Economy was higher than the targeted growth ?

- (1) First Five year Plan
- (2) Second Five year Plan
- (3) Third Five year Plan
- (4) Fourth Five year Plan

किस पंचवर्षीय योजना में, भारतीय अर्थव्यवस्था में वास्तविक वृद्धि दर, लक्षित वृद्धि दर से अधिक थी ?

- (1) प्रथम पंचवर्षीय योजना
- (2) द्वितीय पंचवर्षीय योजना
- (3) तृतीय पंचवर्षीय योजना
- (4) चौथी पंचवर्षीय योजना

Options:-

• 1, Option ID :- 1357,

• 2, Option ID :- 1358,

• 3, Option ID :- 1359,

• 4, Option ID :- 1360,

Answer Given:- 1, Option ID : -1357

Question ID:- 341

Disguised unemployment means :

- (1) Productivity of Labor is Low
- (2) Marginal Productivity of labor is Zero
- (3) Alternative Employment is absent
- (4) Average Productivity of Labor is Zero

छिपी बेरोजगारी का अर्थ है :

- (1) श्रम की उत्पादकता निम्न है।
- (2) श्रम की सीमांत उत्पादकता शून्य है।
- (3) वैकल्पिक रोजगार उपलब्ध नहीं है।
- (4) श्रम की औसत उत्पादकता शून्य है।

Options:-

• 1, Option ID :- 1361,

• 2, Option ID :- 1362,

• 3, Option ID :- 1363,

• 4, Option ID :- 1364,

Answer Given:- 2, Option ID : -1362

Question ID:- 342

Which of the following is/are included while estimating national income using Value added Method ?

- (A) Imputed Rent of Owner occupied houses.
- (B) Imputed Value of goods produced for self consumption.
- (C) Net factor income from abroad.
- (D) Value of intermediate consumption.

- (1) (A), (B) and (C)
- (2) (A), (B) and (D)
- (3) (A), (C) and (D)
- (4) Only (C) and (D)

मूल्य वृद्धि विधि की सहायता से राष्ट्रीय आय के अनुमान के लिए निम्न में से क्या शामिल किया जाता है?

- (A) स्वामी द्वारा निजी इस्तेमाल मकान का अनुमानित किराया।
- (B) स्वयं उपभोग हेतु उत्पादित वस्तुओं का अनुमानित मूल्य।
- (C) विदेश से प्राप्त शुद्ध साधन आय।
- (D) मध्यवर्ती उपभोग का मूल्य।

- (1) (A), (B) एवं (C)
- (2) (A), (B) एवं (D)
- (3) (A), (C) एवं (D)
- (4) केवल (C) तथा (D)

Options:-

▪ 1, Option ID :- 1365,

▪ 2, Option ID :- 1366,

▪ 3, Option ID :- 1367,

▪ 4, Option ID :- 1368,

Answer Given:- 4, Option ID : -1368

Question ID:- 343

Given the information of an economy below :

$$C = 50 + 0.8 Y_d$$

$$t = 0.25$$

What will be value of multiplier ?

- (1) 2.25
- (2) 2.5
- (3) 4.0
- (4) 3.0

एक अर्थव्यवस्था की निम्न जानकारी के आधार पर :

$$C = 50 + 0.8 Y_d$$

$$t = 0.25$$

गुणांक का मूल्य क्या होगा ?

- (1) 2.25
- (2) 2.5
- (3) 4.0
- (4) 3.0

Options:-

▪ 1, Option ID :- 1369,

▪ 2, Option ID :- 1370,

▪ 3, Option ID :- 1371,

- 4, Option ID :- 1372,
Answer Given:- 1, Option ID : -1369

Question ID:- 344

In Keynesian Model, consumption is determined by :

- (A) Level of Income
 - (B) Price Expectation
 - (C) Consumer's Preferences
 - (D) Rate of Interest
- (1) (A), (B) and (C)
(2) (A), (B) and (D)
(3) (A), (C) and (D)
(4) Only (A) and (D)

केन्ज के मॉडल में, उपभोग का निर्धारण किसके द्वारा होता है ?

- (A) आय का स्तर
 - (B) कीमत सम्भावना
 - (C) उपभोक्ता की प्राथमिकताएँ
 - (D) ब्याज की दर
- (1) (A), (B) एवं (C)
(2) (A), (B) एवं (D)
(3) (A), (C) एवं (D)
(4) केवल (A) तथा (D)

Options:-

- 1, Option ID :- 1373,
- 2, Option ID :- 1374,
- 3, Option ID :- 1375,
- 4, Option ID :- 1376,
Answer Given:- 1, Option ID : -1373

Question ID:- 345

Which of the following is **not** a function of RBI ?

- (1) Establishes business relations with Central banks of other IMF member countries.
- (2) Lending Money to Entrepreneurs
- (3) Accepts deposits of Union and State governments
- (4) Deals in Foreign Securities

pgtprime.com

pgtprime.com

निम्न में से कौन-सा RBI का कार्य नहीं है ?

- (1) IMF के सदस्य देशों के केन्द्रीय बैंकों के साथ कार्य सम्बन्ध स्थापित करना
- (2) उद्यमियों को धन उधार देना
- (3) केंद्र एवं राज्य सरकारों के जमाओं का स्वीकारना
- (4) विदेशी प्रतिभूतियों से सम्बंधी कार्य करना

Options:-

• 1, Option ID :- 1377,

• 2, Option ID :- 1378,

• 3, Option ID :- 1379,

• 4, Option ID :- 1380,

Answer Given:- 2, Option ID : -1378

Question ID:- 346

Which of the followings is **not** among the salient features of Indian economy at the time of independence ?

- (1) Disparities in Income Distribution
- (2) Dominance of Agriculture
- (3) Self sufficiency in foodgrains
- (4) Lack of Industrialization

स्वतंत्रता के समय भारतीय अर्थव्यवस्था की निम्न में से कौन-कौन सी मुख्य विशेषताओं में से नहीं है ?

- (1) आय वितरण में विषमताएँ
- (2) कृषि क्षेत्र दबदबा
- (3) खाद्यान्न में आत्मनिर्भरता
- (4) औद्योगीकरण का अभाव

Options:-

• 1, Option ID :- 1381,

• 2, Option ID :- 1382,

• 3, Option ID :- 1383,

• 4, Option ID :- 1384,

Answer Given:- 3, Option ID : -1383

Question ID:- 347

For most of its policy decisions RBI uses inflation indicis after April 2014 :

- (1) CPI
- (2) WPI
- (3) CPI industrial worker
- (4) CPI agriculture worker

अप्रैल 2014 के बाद RBI अपने ज्यादातर नीतिगत निर्णय, मुद्रास्फीति के किस सूचक (Indics) के प्रयोग से कर रही है ?

- (1) CPI
- (2) WPI
- (3) औद्योगिक श्रमिक CPI
- (4) कृषि श्रमिक CPI

Options:-

- 1, Option ID :- 1385,
- 2, Option ID :- 1386,
- 3, Option ID :- 1387,
- 4, Option ID :- 1388,

Answer Given:- 1, Option ID : -1385

Question ID:- 348

Economic Reforms were introduced by China and India respectively in :

- (1) 1978 ; 1991
- (2) 1981 ; 1991
- (3) 1988 ; 1991
- (4) 1982 ; 1991

चीन एवं भारत के द्वारा आर्थिक सुधार क्रमशः कब लागू किये गये ?

- (1) 1978, 1991
- (2) 1981, 1991
- (3) 1988, 1991
- (4) 1982, 1991

Options:-

- 1, Option ID :- 1389,
- 2, Option ID :- 1390,
- 3, Option ID :- 1391,
- 4, Option ID :- 1392,

Answer Given:- 1, Option ID : -1389

Question ID:- 349

Read the statements and choose the **right** option :

- (A) PM Gati Shakti is a Infrastructure development coordination platform
- (B) PM Gati Shakti is driven by 7 Infrastructural engines.

- (1) Both are correct
- (2) Both are incorrect
- (3) (A) is correct but (B) is incorrect
- (4) (A) is incorrect but (B) is correct

कथनों को पढ़कर सही विकल्प चुनियें।

- (A) पी.एम. गति शक्ति एक ढाँचा विकास समन्वय प्लेटफार्म है।
(B) पी.एम. गति शक्ति 7 ढाँचा सम्बन्धी इंजनों द्वारा आगे बढ़ रही है।
- (1) दोनों सही है।
(2) दोनों गलत है।
(3) (A) सही है परन्तु (B) गलत है।
(4) (A) गलत है परन्तु (B) सही है।

Options:-

- 1, Option ID :- 1393,
- 2, Option ID :- 1394,
- 3, Option ID :- 1395,
- 4, Option ID :- 1396,

Answer Given:- 1, Option ID : -1393

Question ID:- 350

Read the following statements and choose the correct option :

- (A) As per economic survey 2021-2022; India's Conventional Policy approach popularly known as Waterfall approach has dumped in favour of Barbell strategy.
(B) This policy change was brought into play for adjustment in the policies based on real-time information.
- (1) (A) is correct but (B) is incorrect
(2) (A) is incorrect but (B) is correct
(3) (B) is the right explanation of (A)
(4) (A) and (B) are contradictory

निम्न कथनों को पढ़कर सही विकल्प का चयन करें।

- (A) आर्थिक सर्वेक्षण 2021-22 के अनुसार; भारत की प्रचलित 'वाटरफाल' नीति संबंधी दृष्टिकोण को 'बारबेल' व्यूहरचना के पक्ष में त्याग दिया गया है।
(B) यह नीतिगत परिवर्तन वास्तविक-काल सूचनाओं के आधार पर नीतियों में परिवर्तन/समायोजन हेतु किया गया है।
- (1) (A) सही है परन्तु (B) गलत है।
(2) (B) सही है परन्तु (A) गलत है।
(3) (B) कथन (A) की सही व्याख्या है।
(4) (A) और (B) एक दुसरे के विरोधाभासी हैं।

Options:-

- 1, Option ID :- 1397,
- 2, Option ID :- 1398,
- 3, Option ID :- 1399,
- 4, Option ID :- 1400,

Answer Given:- 3, Option ID : -1399

Question ID:- 351

According to budget 2022-23 ; four priorities of Amrit Kaal are :

- (1) PM Gati Shakti ; Inclusive development ; Productivity Enhancement and financing of investment.
- (2) PM Gati Shakti ; Inclusive development ; Productivity Enhancement and linking of rivers.
- (3) PM Gati Shakti ; Inclusive development ; Productivity Enhancement and women empowerment.
- (4) (1) and (2) is correct but (3) is incorrect.

सन् 2022-23 के बजट के अनुसार, अमृत-काल की चार प्राथमिकताएं हैं :

- (1) पी.एम. गति शक्ति; समावेशी विकास; उत्पादकता संवर्धन एवं निवेश के लिए वित्त प्रबंधन।
- (2) पी.एम. गति शक्ति; समावेशी विकास; उत्पादकता संवर्धन एवं नदियों का जुड़ाव।
- (3) पी.एम. गति शक्ति; समावेशी विकास उत्पादकता संवर्धन एवं महिला सशक्तिकरण।
- (4) (1) एवं (2) सही हैं परन्तु (3) गलत है।

Options:-

- 1, Option ID :- 1401,
- 2, Option ID :- 1402,
- 3, Option ID :- 1403,
- 4, Option ID :- 1404,

Answer Given:- 3, Option ID : -1403

Question ID:- 352

Which one of following is direct instrument of Monetary Policy ?

- (1) Cash Reserve Ratio
- (2) Open Market Operation
- (3) Liquidity Adjustment Facility
- (4) Reverse Repo Rate

निम्न में से कौन-सा मौद्रिक नीति का सीधा तरीका है ?

- (1) नकद जमा अनुपात
- (2) खुले बाजार की क्रियाएँ
- (3) तरलता समायोजन सुविधा
- (4) रिवर्स रेपो दर

Options:-

- 1, Option ID :- 1405,
- 2, Option ID :- 1406,
- 3, Option ID :- 1407,
- 4, Option ID :- 1408,

Answer Given:- 1, Option ID : -1405

Question ID:- 353

According to Mercantilists view; trade is a :

- (1) comparative advantage game.
- (2) negative sum game.
- (3) zero sum game.
- (4) positive sum game.

वाणिज्यवादी विचार के अनुसार; व्यापार :

- (1) तुलनात्मक लाभ का खेल है।
- (2) ऋणात्मक जमा का खेल है।
- (3) शून्य जमा का खेल है।
- (4) धनात्मक जमा का खेल है।

Options:-

▪ 1, Option ID :- 1409,

▪ 2, Option ID :- 1410,

▪ 3, Option ID :- 1411,

▪ 4, Option ID :- 1412,

Answer Given:- 3, Option ID : -1411

Question ID:- 354

Which of the following WTO agreement cover all internationally traded services ?

- (1) TRIPS
- (2) TRIMS
- (3) GATS
- (4) PTA

निम्न में से कौन-सा WTO समझौता (Agreement) सभी अन्तर्राष्ट्रीय सेवाओं के व्यापार को शामिल (Cover) करती है?

- (1) TRIPS
- (2) TRIMS
- (3) GATS
- (4) PTA

Options:-

▪ 1, Option ID :- 1413,

▪ 2, Option ID :- 1414,

▪ 3, Option ID :- 1415,

▪ 4, Option ID :- 1416,

Answer Given:- 3, Option ID : -1415

Question ID:- 355

With reference to the component of 'Bharat Nirman Yojana' which of the following are correct ?

- (A) Rural Housing
- (B) Rural Telephony
- (C) Rural electrification
- (D) Rural employment

Select the correct answer using the code given below :

- (1) (A), (B) and (C)
- (2) (B), (C) and (D)
- (3) (A), (C) and (D)
- (4) All of the above

'भारत निर्माण योजना' के घटक के सन्दर्भ में से कौन-सा सही है ?

- (A) ग्रामीण आवास
- (B) ग्रामीण टेलीफोन
- (C) ग्रामीण विद्युतीकरण
- (D) ग्रामीण रोजगार

नीचे दिए गए कूट से सही उत्तर को चुनिए :

- (1) (A), (B) और (C)
- (2) (B), (C) और (D)
- (3) (A), (C) और (D)
- (4) उपर्युक्त सभी

Options:-

- 1, Option ID :- 1417,
- 2, Option ID :- 1418,
- 3, Option ID :- 1419,
- 4, Option ID :- 1420,

Answer Given:- 1, Option ID : -1417

Question ID:- 356

Which one of the following is not correctly matched ?

Organisation		Year of Establishment
(1) International Monetary Fund	-	1945
(2) World Bank	-	1944
(3) World Trade Organisation	-	1995
(4) Asian Development Bank	-	1966

pgtprime.com

pgtprime.com

निम्न में से कौन सुमेलित नहीं है ?

संगठन	स्थापना वर्ष
(1) अन्तराष्ट्रीय मुद्रा कोष	1945
(2) विश्व बैंक	1944
(3) विश्व व्यापार संगठन	1995
(4) एशियाई विकास बैंक	1966

Options:-

▪ 1, Option ID :- 1421,

▪ 2, Option ID :- 1422,

▪ 3, Option ID :- 1423,

▪ 4, Option ID :- 1424,

Answer Given:- 2, Option ID : -1422

Question ID:- 357

Arrange the origin of money in a sequential order :

- (I) Metallic money
- (II) Commodity money
- (III) Paper money
- (IV) Plastic money

Select the correct answer using the code given below code:

- (1) (I), (II), (III), (IV)
- (2) (IV), (III), (II), (I)
- (3) (II), (I), (III), (IV)
- (4) (III), (IV), (II), (I)

मुद्रा के उद्गम को काल क्रम में रखिए :

- (I) धातु मुद्रा
- (II) वस्तु मुद्रा
- (III) कागज मुद्रा
- (IV) प्लास्टिक मुद्रा

नीचे दिए गए कूट से सही उत्तर को चुनिए :

- (1) (I), (II), (III), (IV)
- (2) (IV), (III), (II), (I)
- (3) (II), (I), (III), (IV)
- (4) (III), (IV), (II), (I)

Options:-

▪ 1, Option ID :- 1425,

▪ 2, Option ID :- 1426,

▪ 3, Option ID :- 1427,

▪ 4, Option ID :- 1428,

Question ID:- 358

Which of the following Commodities is kept outside the purview of GST ?

- (A) Insurance Products
- (B) Petroleum Products
- (C) Edible Oils

Select the **correct** answer using the code given below :

- (1) Only (A)
- (2) Only (B)
- (3) Only (C)
- (4) All of the above

निम्नलिखित में से किस वस्तु को वस्तु एवं सेवा कर के दायरे से बाहर रखा गया है ?

- (A) बीमा उत्पाद
- (B) पेट्रोलियम उत्पाद
- (C) खाद्य तेल

नीचे दिए गए कूट से सही उत्तर को चुनिए :

- (1) केवल (A)
- (2) केवल (B)
- (3) केवल (C)
- (4) उपरोक्त सभी

Options:-

- 1, Option ID :- 1429,
- 2, Option ID :- 1430,
- 3, Option ID :- 1431,
- 4, Option ID :- 1432,

Answer Given:- 2, Option ID : -1430

Question ID:- 359

Which one of the following countries is **not** the member of the Shanghai Cooperation Organization (SCO) ?

- (1) Japan
- (2) India
- (3) China
- (4) Pakistan

निम्नलिखित देशों में से, कौन शंघाई सहयोग संगठन (SCO) का सदस्य नहीं है ?

- (1) जापान
- (2) भारत
- (3) चीन
- (4) पाकिस्तान

Options:-

• 1, Option ID :- 1433,

• 2, Option ID :- 1434,

• 3, Option ID :- 1435,

• 4, Option ID :- 1436,

Answer Given:- 1, Option ID : -1433

Question ID:- 360

Which of the following is correct ?

- (A) Sensex is an index number of 30 shares.
- (B) The oldest stock exchange of India is BSE.
- (C) Futures and options in shares are traded at all stock exchanges of India.

Code :

- (1) (A) and (B)
- (2) (B) and (C)
- (3) (A) and (C)
- (4) (A), (B) and (C)

निम्नलिखित में से कौन-सा सही है ?

- (A) सेंसेक्स 30 शेयरों का एक सूचकांक है।
- (B) भारत का सबसे पुराना स्टॉक एक्सचेंज बी.एस.ई. है।
- (C) शेयरों के फ्यूचर्स तथा ऑप्शन का कारोबार भारत के सभी स्टॉक एक्सचेंज में किया जाता है।

कूट :

- (1) (A) और (B)
- (2) (B) और (C)
- (3) (A) और (C)
- (4) (A), (B) और (C)

Options:-

• 1, Option ID :- 1437,

• 2, Option ID :- 1438,

• 3, Option ID :- 1439,

• 4, Option ID :- 1440,

Answer Given:- 1, Option ID : -1437